

le comunicazioni

# Comunicazioni e collegamenti


1 - Collega, colorando i cerchietti con lo stesso colore, i disegni alle loro definizioni. Scrivi poi accanto a ciascuno il nome del luogo rappresentato.

Punto in cui le vie di aria si uniscono alle vie di terra




.....  
.....  
.....

Punto in cui le vie di mare si uniscono alle vie di terra



.....  
.....  
.....

Punto in cui le vie ferroviarie si uniscono alle vie stradali




.....  
.....  
.....


2 - Elenca i nomi di cinque vie del tuo paese, o della tua città, e scrivi di quale tipo di strada si tratta.

denominazione della via	tipo di strada


3 - Scrivi sotto a ogni disegno di che tipo di strada si tratta.




.....  
.....



.....  
.....



.....  
.....



.....  
.....

le comunicazioni

# La rete delle ferrovie

1 - Osserva la cartina della rete ferroviaria italiana, poi rispondi e completa.

Le città contrassegnate sulla carta con un puntino corrispondono ai maggiori nodi ferroviari italiani: quali sono i loro nomi? Scrivili sulla carta.

Cerca sul vocabolario la definizione dei seguenti termini:

**nodo ferroviario** .....

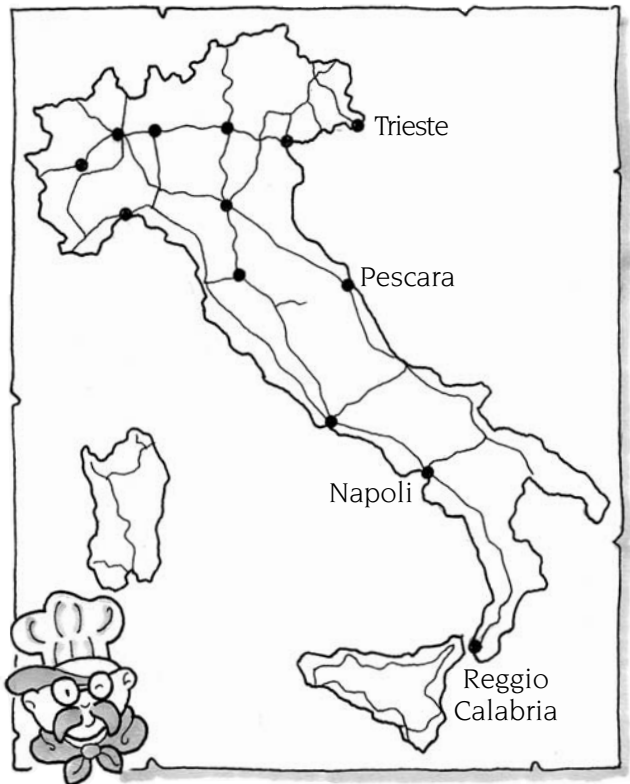
.....

.....

**interporto** .....

.....

.....



Seguendo il tracciato ferroviario segnato sulla cartina, immagina di dover effettuare i lunghi tragitti che sono riportati qui sotto. Quali importanti nodi ferroviari dovresti attraversare? Rispondi completando la tabella.

partenza da...	nodi ferroviari attraversati	arrivo a...
Pescara		Napoli
Reggio Calabria		Venezia
Trieste		Roma

2 - Consulta le pagine di televideo o un orario ferroviario e ricopia gli orari dei principali treni in partenza dal tuo paese, o dalla tua città, diretti verso Roma (se abiti a Roma, scegli Milano come meta del tuo viaggio).

stazione di partenza	orario di partenza	orario di arrivo

## le comunicazioni

## Porti e aeroporti

- 1 - Colora la carta dei grandi porti italiani, seguendo la legenda.

principali porti mercantili = rosso    principali porti passeggeri = azzurro

## porti mercantili

-  Trieste
-  Venezia
-  Taranto
-  Livorno
-  Genova
-  Ravenna

## porti passeggeri

-  Napoli
-  Olbia
-  Civitavecchia
-  Piombino
-  Ancona
-  Portoferraio
-  Palermo
-  Milazzo



- 2 - Colora la carta dei grandi aeroporti italiani, seguendo la legenda.

## grandi aeroporti

-  Milano Malpensa
-  Roma Fiumicino

## altri aeroporti

-  Venezia
-  Torino
-  Bologna
-  Napoli
-  Milano Linate
-  Palermo
-  Catania
-  Pisa
-  Cagliari
-  Genova

