

# DECINE E UNITA'

Mara e i suoi amici hanno raccolto le ciliegie.

Chi ha raccolto più ciliegie? .....

Chi ha raccolto meno ciliegie? .....

Chi ha raccolto lo stesso numero di ciliegie? .....

Conta le unità e le decine sugli abachi e scrivi il numero risultante. Scrivilo anche in parola.

|    |   |
|----|---|
| da | u |
|    |   |

MARA

.....

|    |   |
|----|---|
| da | u |
|    |   |

LUCA

.....

|    |   |
|----|---|
| da | u |
|    |   |

CHIARA

.....

|    |   |
|----|---|
| da | u |
|    |   |

GIANNI

.....

# DECINE E UNITA'

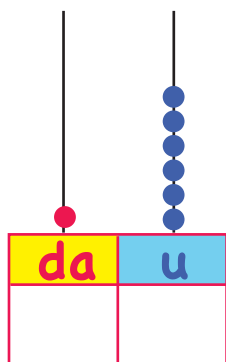
Mara e i suoi amici hanno fatto una gara di salti con la corda.

Scopri chi ha vinto.


Conta le unità e le decine sugli abachi e scrivi il numero risultante. Scrivilo anche in parola.



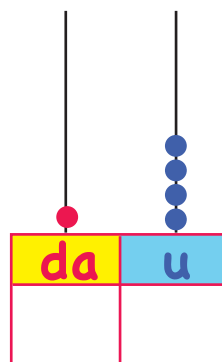
MARA




.....



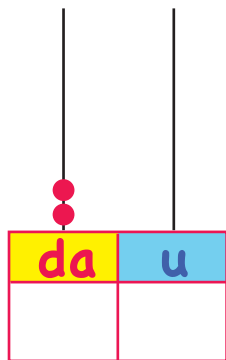
LUCA




.....



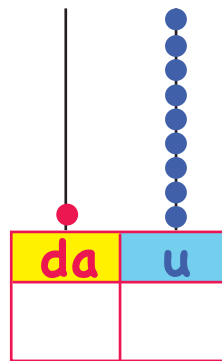
CHIARA



.....



GIANNI



.....



# DECINE E UNITA'

Mara e i suoi amici hanno raccolto le fragole per fare una bella macedonia.

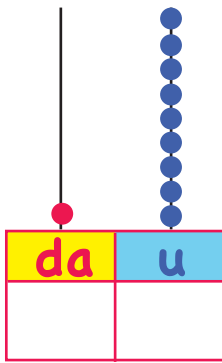
Chi ha raccolto più fragole? .....

Chi ha raccolto meno fragole? .....


Conta le unità e le decine sugli abachi e scrivi il numero risultante. Scrivilo anche in parola.



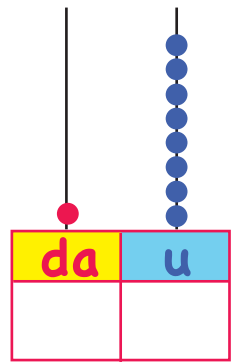
MARA






.....



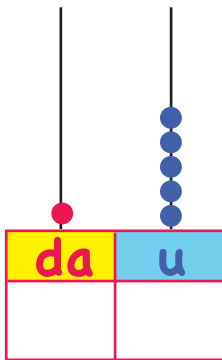
LUCA




.....



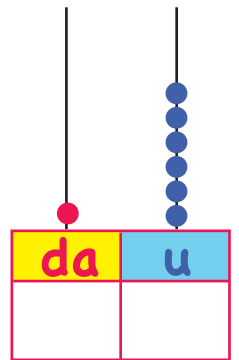
CHIARA



.....




GIANNI



.....

# DECINE E UNITA'

Mara e Francesco raccolgono ogni giorno tanti fiorellini e li contano aiutandosi con l'abaco.  
Conta le unità e le decine sugli abachi e scrivi il numero risultante. Scrivilo anche in parola.  
In quale giorno hanno raccolto il maggior numero di fiori?.....  
In quale giorno hanno raccolto il minor numero di fiori? .....



**LUNEDI'**

|    |   |
|----|---|
| da | u |
| 1  | 0 |

**DIECI**

.....

**MARTEDI'**

|    |   |
|----|---|
| da | u |
|    | 3 |

.....

**MERCOLEDI'**

|    |   |
|----|---|
| da | u |
|    | 1 |

.....

**GIOVEDI'**

|    |    |
|----|----|
| da | u  |
|    | 10 |

.....

**VENERDI'**

|    |   |
|----|---|
| da | u |
|    | 4 |

.....

**SABATO**

|    |   |
|----|---|
| da | u |
|    | 1 |

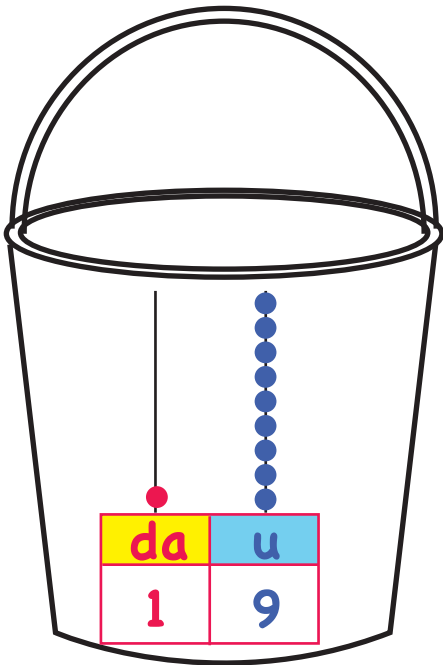
.....

**DOMENICA**

|    |   |
|----|---|
| da | u |
|    | 5 |

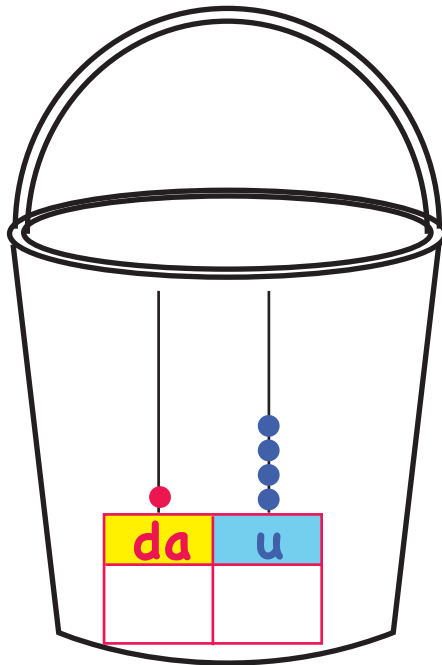
.....

Nei secchielli ci sono tante conchiglie. Conta le unità e le decine sugli abachi e scrivi il numero risultante. Scrivilo anche in parola. Qual è il secchiello che ha il maggior numero di conchiglie?

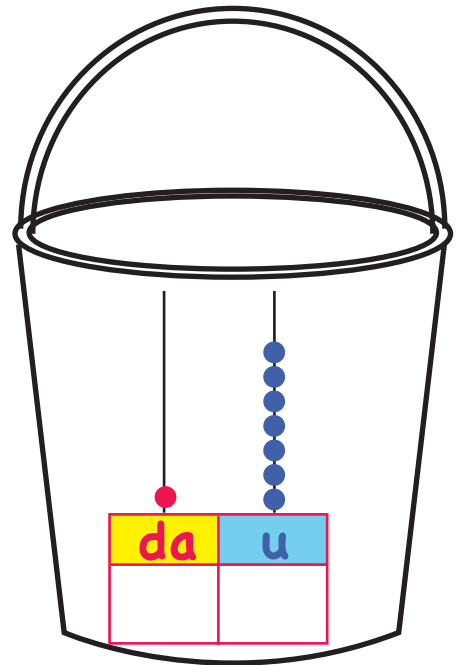


**DICIANNOVE**

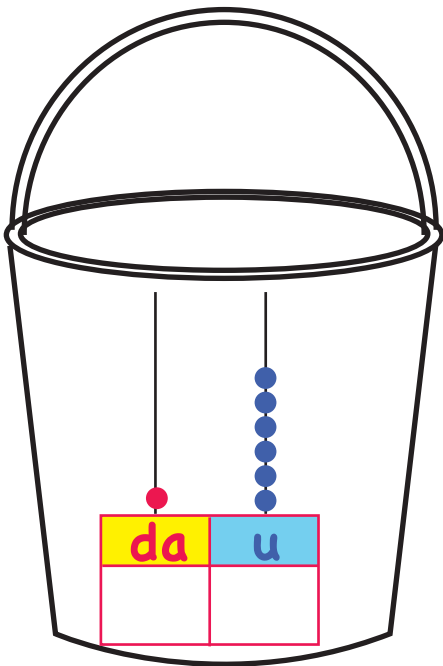
.....



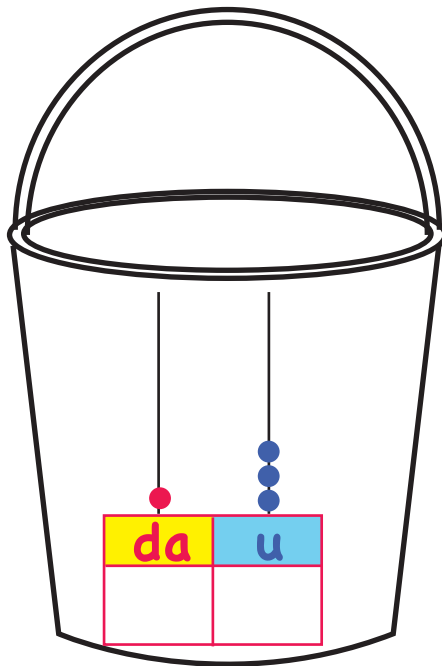
.....



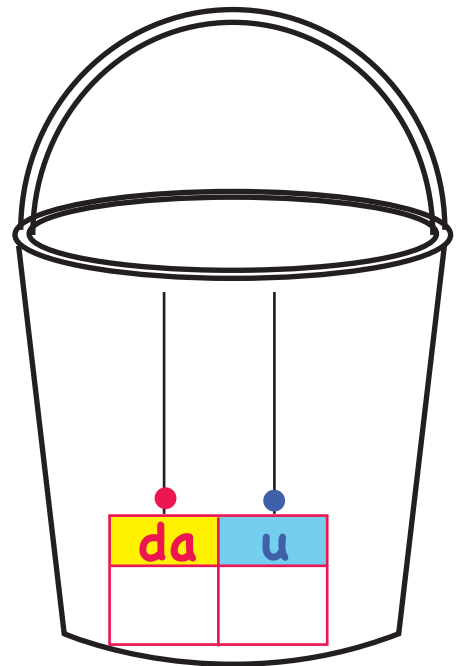
.....



.....



.....



.....

# DECINE E UNITA'

Lo scoiattolo Sammy raccoglie ogni giorno tante ghiande per l'inverno e le conta aiutandosi con l'abaco.

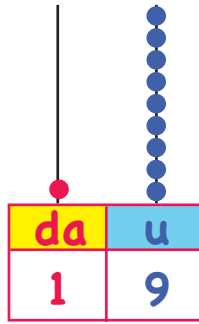
Conta le unità e le decine sugli abachi e scrivi il numero risultante. Scrivilo anche in parola.

In quale giorno ha raccolto il maggior numero di ghiande?.....

In quale giorno ha raccolto il minor numero di ghiande? .....



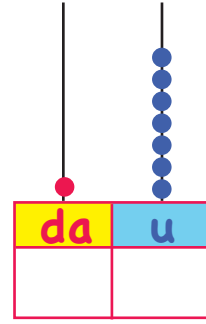
**LUNEDI'**



**DICIANNOVE**

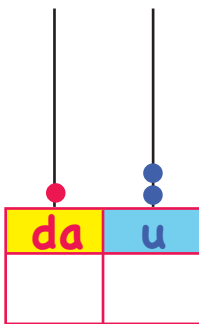
.....

**MARTEDI'**



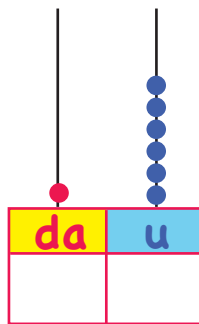
.....

**MERCOLEDI'**



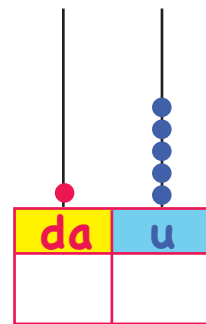
.....

**GIOVEDI'**



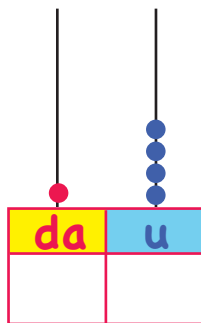
.....

**VENERDI'**



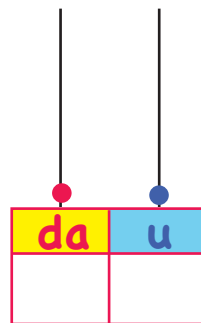
.....

**SABATO**



.....

**DOMENICA**

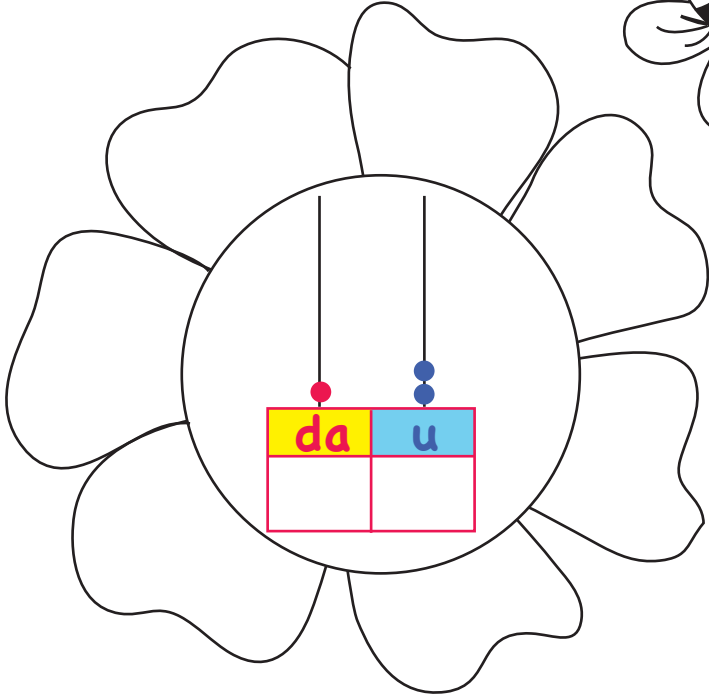


.....

# DECINE E UNITA'

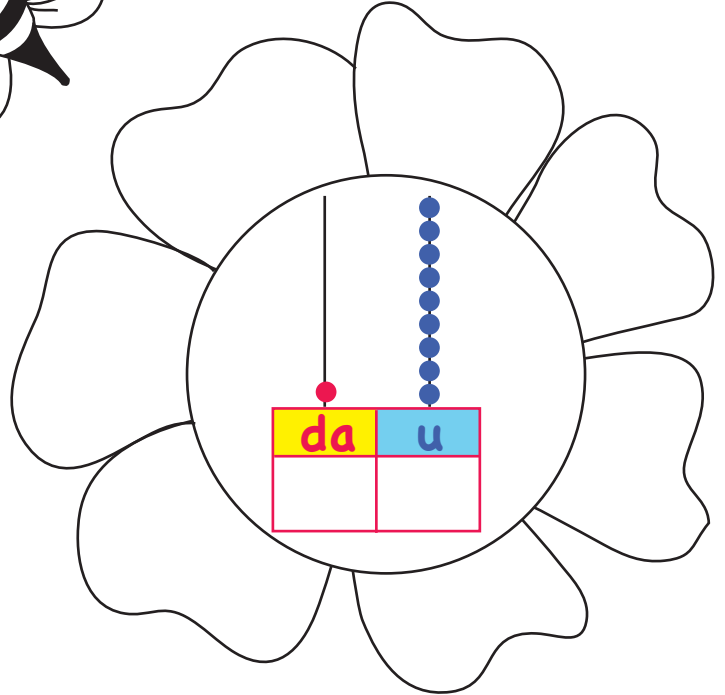
Su questi fiori si posano ogni giorno tante api. Scopri quante api si sono posate oggi su ogni fiore contando le decine e le unità sugli abachi. Scrivi il numero ottenuto anche in parola.

Colora di rosso il fiore su cui si è posato il maggior numero di api e di celeste quello su cui si è posato il numero minore di api.

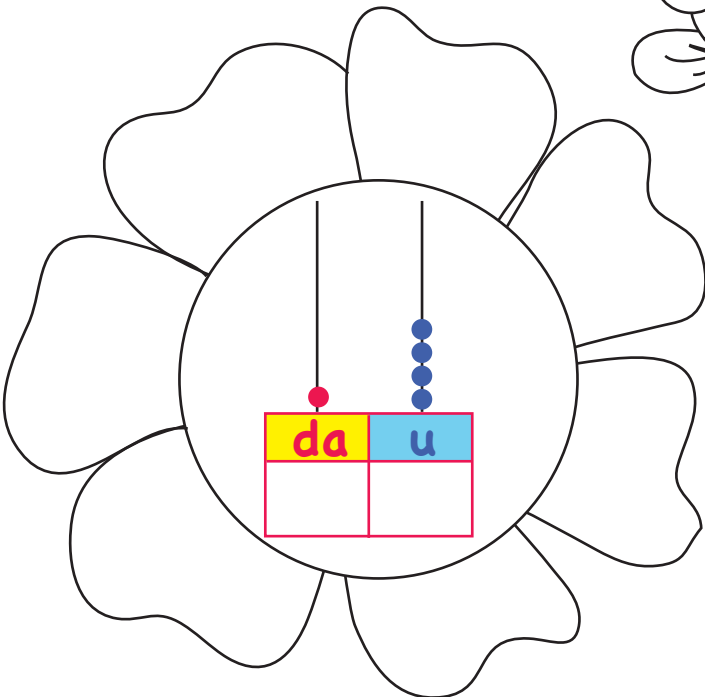


**DODICI**

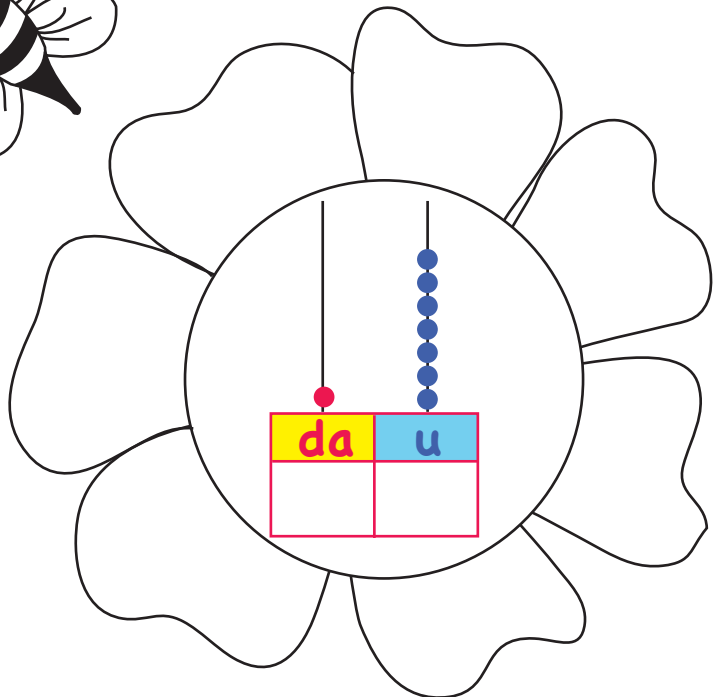
.....



.....



.....



.....