


# PROBLEMA

☆ Francesco in spiaggia ha raccolto 19 conchiglie bianche e 7 conchiglie marroni.  
Mara ha raccolto 12 conchiglie rosa e 9 conchiglie grigie.  
Quante conchiglie hanno raccolto in tutto?




## DATI

- ..... conchiglie bianche
- ..... conchiglie marroni
- ..... conchiglie grigie
- ..... conchiglie rosa


## OPERAZIONI

..... totale conchiglie Francesco.  
..... totale conchiglie Mara.

conchiglie Francesco




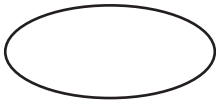
conchiglie Mara



operazione




risultato



## RISPOSTA:

.....  
.....

☆ Disegna le conchiglie che ha trovato Francesco e quelle che ha trovato Mara.



## PROBLEMA

★ Mara e Francesco stanno raccogliendo dei fiori da regalare alle loro mamme. Mara ha raccolto 10 margherite e 3 tulipani; Francesco ha raccolto 9 margherite e 5 tulipani.

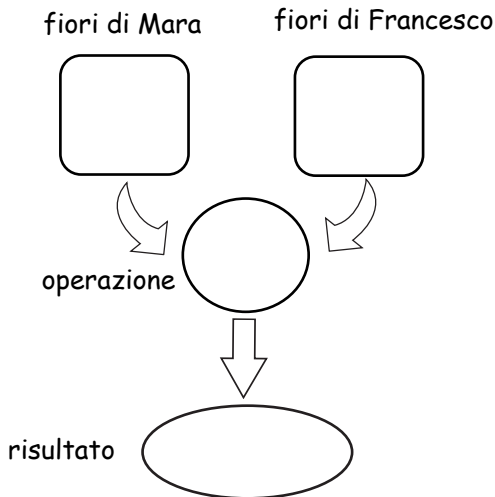
Quanti fiori hanno raccolto in tutto i due bambini?

### DATI

.....margherite di Mara  
.....tulipani di Mara  
.....margherite di Francesco  
.....tulipani di Francesco

### OPERAZIONI

.....+.....totale fiori di Francesco  
..... ..totale fiori di Mara




### RISPOSTA:

.....

★ Disegna i due mazzi di fiori che hanno regalato Mara e Francesco alle loro mamme.

Ti ricordi com'erano composti?



## PROBLEMA

☆ Francesco è andato a trovare il nonno che abita in campagna. Il nonno si diverte a fare degli indovinelli a Francesco, questa volta gli ha chiesto: "Se nel pollaio ci sono 5 galline, 8 pulcini e 4 oche, sai dirmi quante zampe ci sono in tutto nel pollaio?" Sapresti aiutare Francesco a dare la risposta giusta?

### DATI

..... galline

..... pulcini

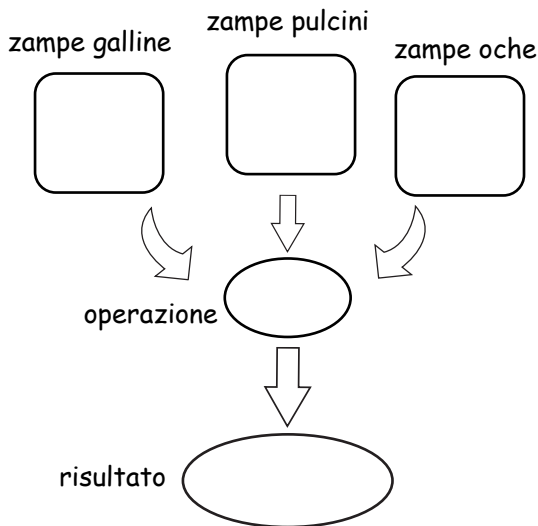
..... oche

### OPERAZIONI

.....X.....totale zampe galline

..... totale zampe pulcini


..... totale zampe oche



### RISPOSTA:

.....

☆ Disegna tutti gli animali che ci sono nel pollaio.



# PROBLEMA

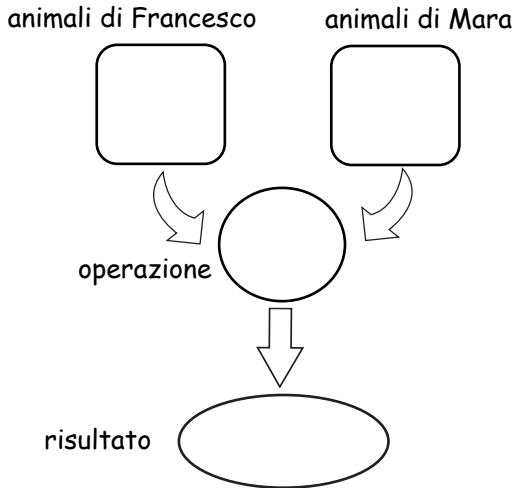
☆ Nell'acquario di Francesco ci sono 4 pesci rossi, 2 pesci blu e 3 stelle marine.  
Nell'acquario di Mara ci sono 5 pesci gialli, 3 pesci arancioni e 2 cavallucci marini.  
Quanti animali acquatici hanno in tutto Francesco e Mara?

## DATI

.....totale pesci di Francesco  
.....stelle marine  
.....totale pesci di Mara  
.....cavallucci marini

## OPERAZIONI

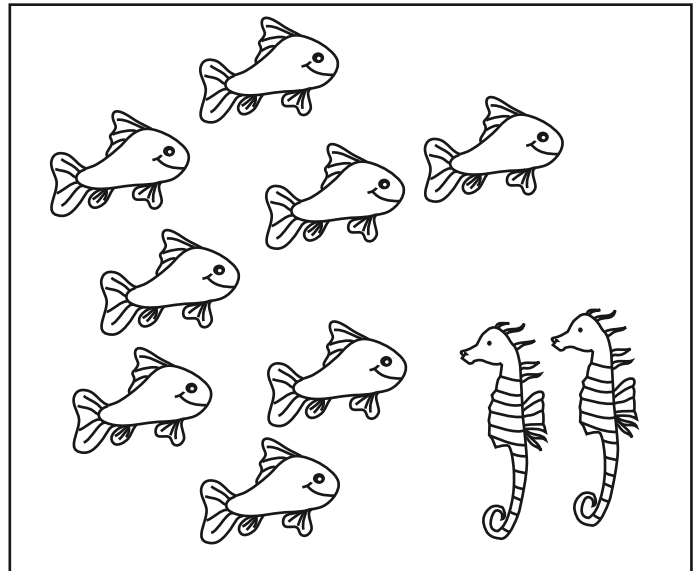
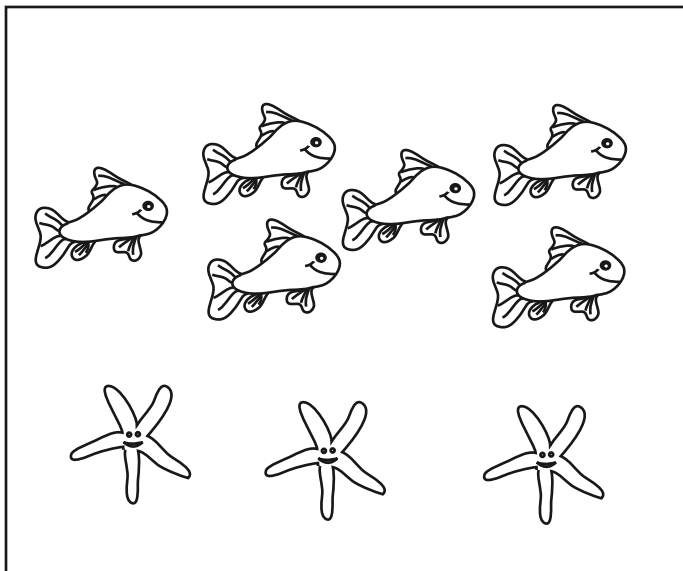
.....+.....totale animali di Francesco  
..... ..totale animali di Mara



## RISPOSTA:

.....

☆ Colora gli acquari di Mara e Francesco, ti ricordi di che colore sono i pesci?



# PROBLEMA

☆ A Francesco hanno regalato un bellissimo acquario.

Nell'acquario ci sono 4 pesci rossi, 7 pesci gialli e 3 cavallucci marini.

Quanti animali ci sono in tutto nell'acquario di Francesco?

**DATI**

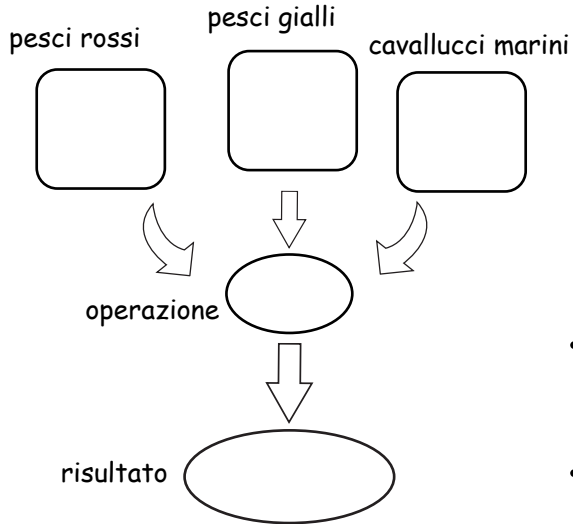
..... pesci rossi

..... pesci gialli

..... cavallucci marini

# OPERAZIONI

..... .. totale animali



# RISPOSTA:

.....

.....

☆ Disegna tutti gli animali che ci sono nell'acquario di Francesco.

