



Filastrocca della settimana



Lunedì.....

.....

.....



Martedì.....

.....


.....



Mercoledì.....

.....


.....



Giovedì.....

.....

.....



Venerdì.....

.....

.....



Sabato.....

.....

.....



Domenica.....

.....

.....

I GIORNI DELLA SETTIMANA

Completa inserendo il giorno precedente e il giorno successivo

PRECEDENTE		SUCCESSIVO
	venerdì	
	martedì	
	sabato	
	mercoledì	
	lunedì	

I GIORNI DELLA SETTIMANA

Completa inserendo il giorno precedente e il giorno successivo

PRECEDENTE		SUCCESSIVO
	venerdì	
	martedì	
	sabato	
	mercoledì	
	lunedì	

I GIORNI DELLA SETTIMANA

Completa la tabella

IERI	OGGI	DOMANI
sabato		
	mercoledì	
domenica		
		domenica
	martedì	

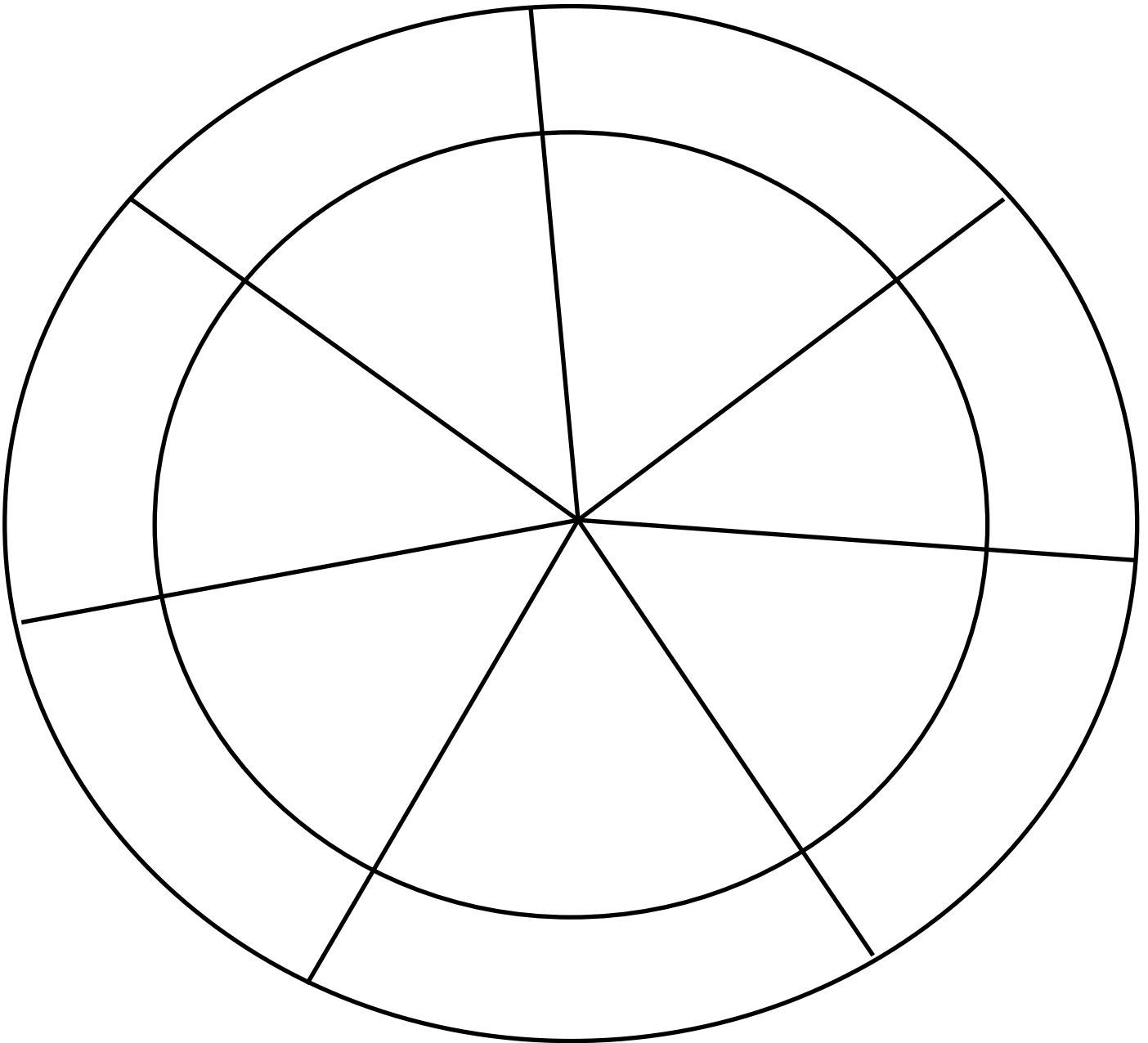
I GIORNI DELLA SETTIMANA

Completa la tabella

IERI	OGGI	DOMANI
sabato		
	mercoledì	
domenica		
		domenica
	martedì	

I GIORNI DELLA SETTIMANA

Completa inserendo i nomi dei giorni e disegnando nei vari spazi le attività svolte durante la settimana.



Scrivi in ordine i giorni della settimana

Lunedì		

Rispondi vero V o falso F

- In una settimana ci sono due domeniche
- Una settimana è formata da 7 giorni
- Dopo la domenica viene il sabato
- Prima del lunedì viene il martedì
- Una settimana è formata da 8 giorni
- Prima del sabato viene il venerdì
