


# 3

# L'ITALIANO PER STUDIARE



**testi semplificati per l'insegnamento della Geografia**

---

*materiali esemplificativi elaborati da Arcangela Mastromarco*

*aggiornato a febbraio 2008*

## Note per gli insegnanti

- ✓ Il lavoro si presenta come una proposta esemplificativa, che ogni insegnante potrà adattare alla propria realtà scolastica, sostituendo e utilizzando altri testi e altre immagini.
- ✓ Questo lavoro è stato realizzato con due bambini di V elementare, Norman (filippino, neoarrivato da sette mesi) e Qing Rui (cinese, in Italia da un anno e mezzo circa). I due alunni possedevano già i prerequisiti relativi all'orientamento, alla lettura delle carte geografiche e alla conoscenza dei diversi ambienti e quindi non è stato necessario svolgere tutta una serie di attività preparatorie che sono invece indispensabili per affrontare lo studio della geografia.
- ✓ Anche l'italiano posseduto dai due bambini ha permesso la stesura di testi che in realtà andrebbero ulteriormente semplificati per bambini con un livello di conoscenza della lingua inferiore.
- ✓ Il percorso è stato supportato da un costante lavoro di osservazione, da molte immagini e soprattutto dall'uso del software *Atlante Mondiale Microsoft Encarta* che permette veramente di "giocare con la Terra".
- ✓ Il testo andrebbe completato con gli elementi mancanti (flora, fauna, economia, ecc.) e arricchito con le attività, le osservazioni, le esperienze concrete che facilitano lo studio geografico (es. ritagliare un mappamondo gonfiabile per comprendere il planisfero, osservare i movimenti del sole, disegnare oggetti visti dall'alto ecc.).
- ✓ Le immagini degli ambienti (montagna, mare, fiume, lago ecc.) sono tratte dal testo: Ferrara M., Gujon A., Manganotto V., *Geografia 3*, Signorelli, Milano 1982 e concesse gratuitamente dall'editore.

# L'ITALIA e le parole-chiave



# LA GEOGRAFIA

**Geografia** è una parola formata da altre due parole:

**geo:** Terra

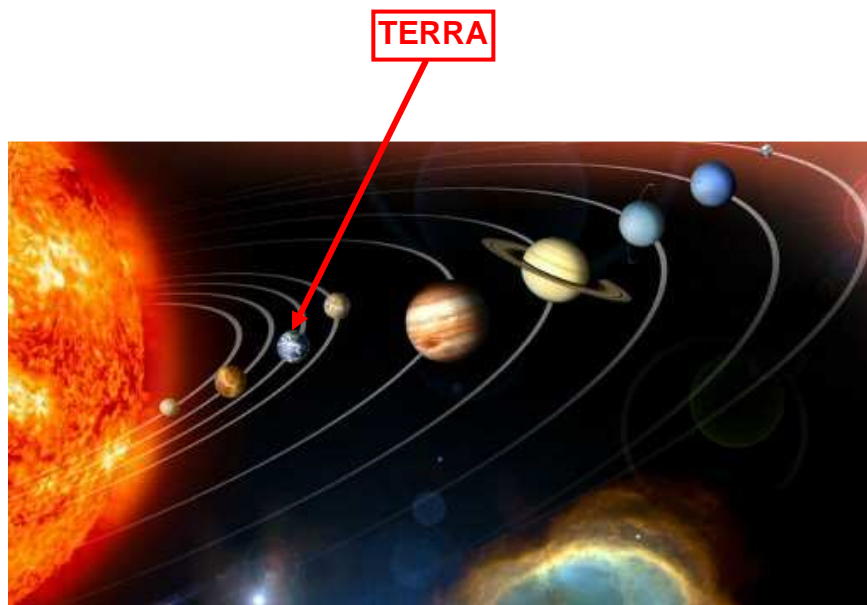
**grafia:** disegno, descrizione.

Studiare la **geografia** vuol dire studiare com'è fatta la **Terra**.

La Terra è il pianeta dove noi viviamo, il nostro mondo.



La Terra è rotonda come una palla e gira intorno al sole.



Il **mappamondo** è come una piccola Terra che noi possiamo far girare e guardare da vicino.



Il **planisfero** è la carta, il disegno di tutta la Terra.



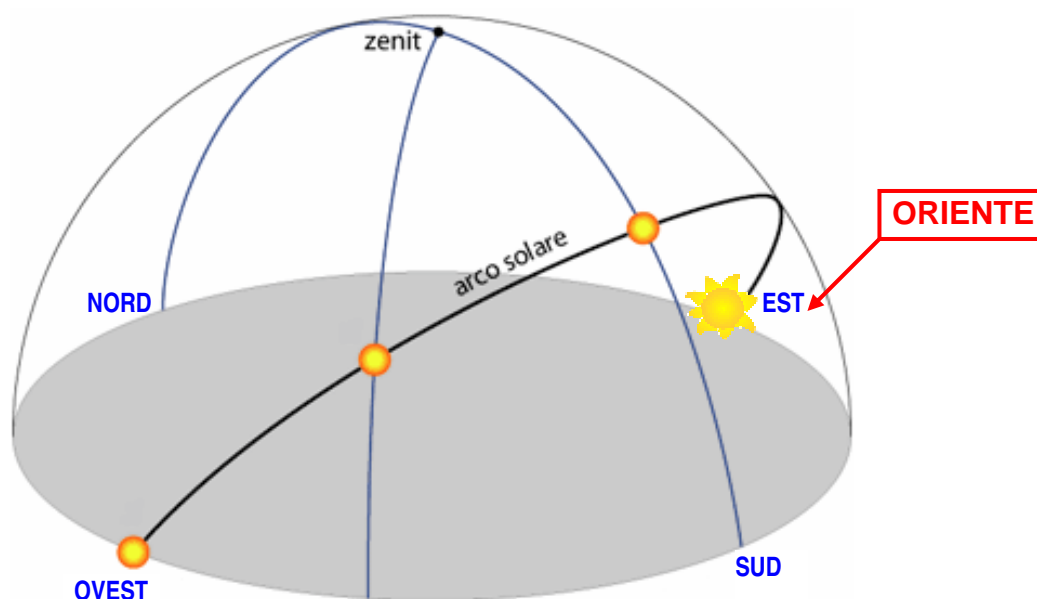
Le **parole-chiave** ➡ sono le parole che ci permettono di capire quello che leggiamo 😊.

Per studiare l'**Italia** bisogna conoscere le parole-chiave ➡ speciali della geografia.

# L'ORIENTAMENTO

**Orientarsi** vuol dire trovare la strada.

In geografia **orientarsi** vuol dire trovare l'**oriente**, cioè il punto dove nasce il sole.



L'oriente è uno dei **4 punti cardinali**.

Se sai dove si trova l'oriente, puoi trovare anche gli altri punti cardinali.

I punti cardinali si chiamano in tanti modi:

<b>EST</b>	0	⇒	ORIENTE	0	⇒	LEVANTE
<b>OVEST</b>	0	⇒	OCCIDENTE	0	⇒	PONENTE
<b>NORD</b>	0	⇒	SETTENTRIONE	0	⇒	MEZZANOTTE
<b>SUD</b>	0	⇒	MERIDIONE	0	⇒	MEZZOGIORNO

Quando il sole non si può vedere, o è notte, per orientarsi si può:

- usare la **bussola**



- guardare il cielo e cercare la **stella polare** che indica il NORD



- osservare il tronco di un albero: dove cresce il **muschio**, cioè dove non arriva il sole, quello è il NORD.



**NORD**

## VERIFICA


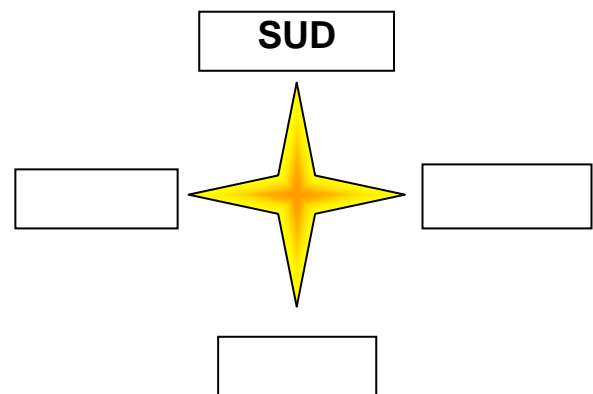
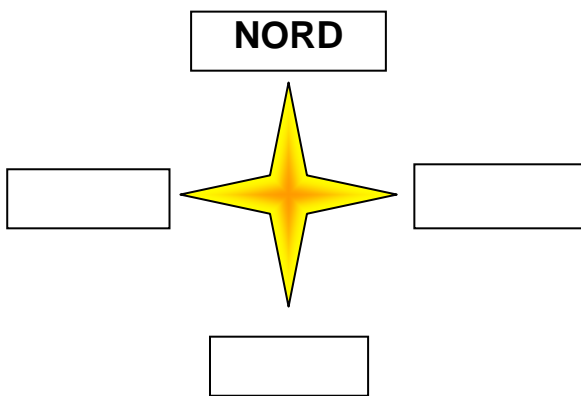
 **Scrivi sui puntini le parole che mancano:**

Il punto opposto a SUD è .....

Il punto opposto a EST è .....

I punti cardinali sono .....

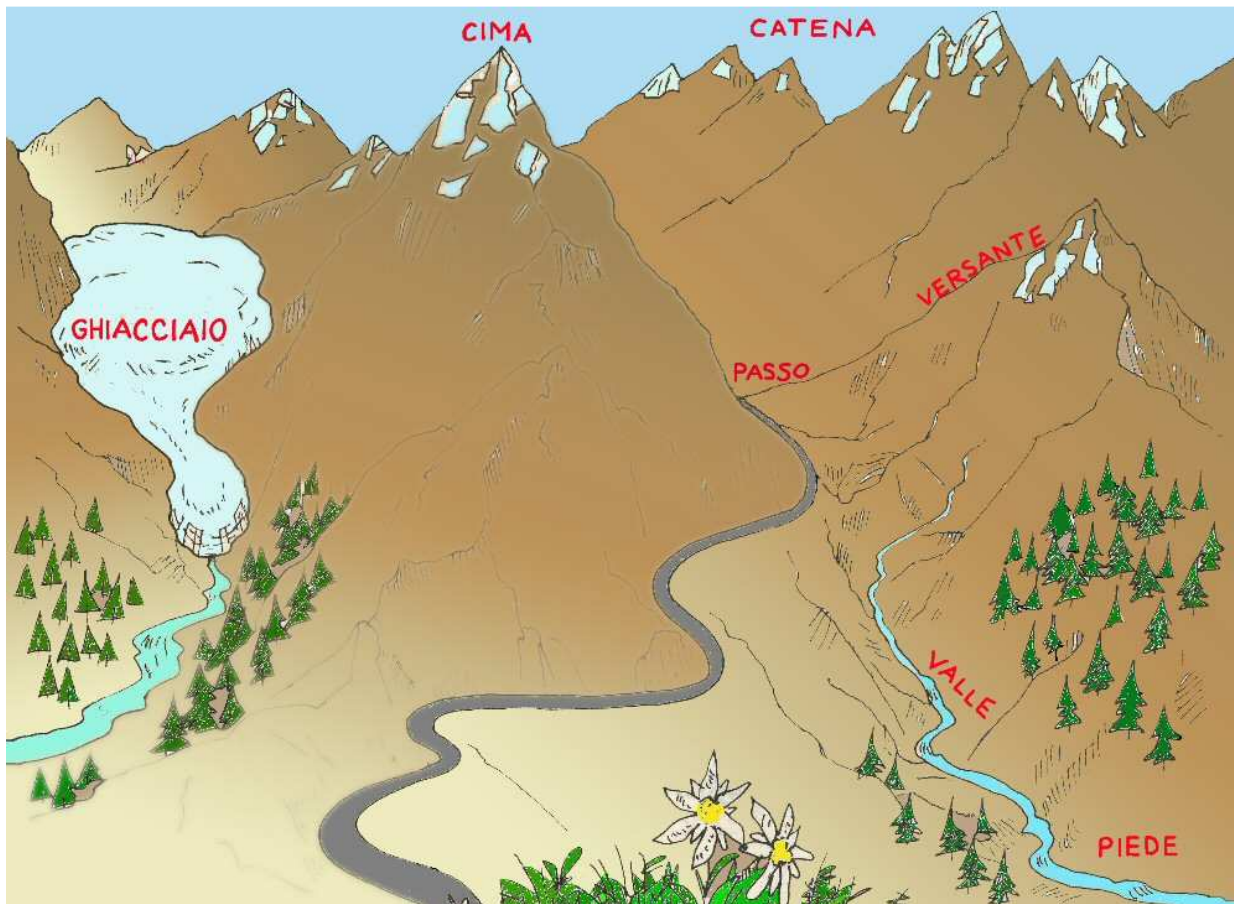
 **Scrivi nelle caselle i punti cardinali che mancano:**





# LA MONTAGNA



La **montagna** è “un'altezza” del terreno che supera i 600 metri. Le montagne sono fatte di **roccia**, ma dal **piede** fino a 3.000 metri la roccia è coperta di alberi e piante.



## Parole-chiave

- **CIMA:** il punto più alto di una montagna.
- **PIEDE:** la base della montagna.
- **VERSANTE:** il lato di una montagna.
- **CATENA MONTUOSA:** una linea di montagne vicine.
- **PASSO:** il punto più basso dove si può passare dall'altra parte della catena montuosa.
- **VALLE:** il territorio che si trova tra due catene di montagne.
- **GHIACCIAIO:** si forma sulle montagne alte dove la neve non si scioglie mai e si trasforma in ghiaccio.

## VERIFICA

<p><i>Disegna una montagna</i> →</p>	
<p><i>Disegna una catena montuosa</i> →</p>	
<p><i>Indica il passo in questa catena montuosa</i> →</p>	
<p><i>Indica la cima di questa montagna</i> →</p>	

 **Scrivi sui puntini le parole che mancano:**

Lo spazio compreso tra due catene montuose si chiama .....

La montagna si ha quando il terreno supera i ..... metri di altezza.

In montagna gli alberi e le piante crescono fino a ..... metri di altezza.

# LE MONTAGNE IN ITALIA

In Italia ci sono due grandi catene montuose: le **Alpi** e gli **Appennini**.

Le **Alpi** si trovano a Nord e separano l'Italia dalla Francia, dalla Svizzera e dall'Austria.

Le cime più alte sono:

- il **Monte Bianco** (4.810 m)
- il **Monte Rosa** (4.633 m)

Gli **Appennini**: cominciano a Nord-Ovest (Appennino Ligure) e continuano fino in Sicilia (Appennino Siculo).

Le cime più alte degli Appennini sono:

- il **Gran Sasso** (2.912 m)
- la **Maiella** (2.795 m)



# I VULCANI IN ITALIA

Nella catena degli Appennini ci sono molti **vulcani**. La maggior parte sono **inattivi** da migliaia di anni.

Nell'Appennino meridionale si trovano alcuni **vulcani attivi**:

l'**Etna** è il più grande vulcano d'Europa e si trova in Sicilia. Negli ultimi anni ha avuto molte **eruzioni** e la **lava** è arrivata fino al mare.

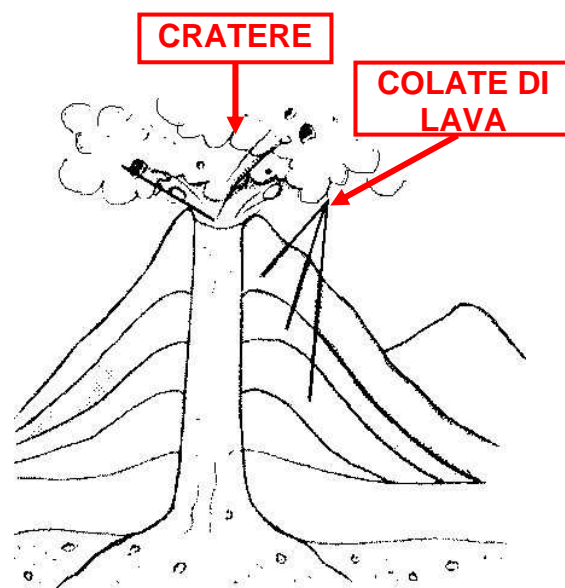
Il **Vesuvio** si trova a Napoli.

Nelle isole Eolie ci sono altri due vulcani, **Stromboli** e **Vulcano** da cui escono sempre cenere e fumo.



## Parole-chiave ↔

- **VULCANO**: montagna a forma di cono con un'apertura sulla cima. Ogni tanto da questa bocca escono lava, cenere e gas.
- **CRATERE**: la bocca di un vulcano.
- **ERUZIONE**: quando la lava esce dal vulcano in modo molto violento.
- **LAVA**: materiale liquido, molto caldo, che esce dal vulcano durante un'eruzione
- **Vulcano ATTIVO**: acceso, che funziona, ci possono essere eruzioni.
- **Vulcano INATTIVO**: spento da tanti anni, non ci sono eruzioni.



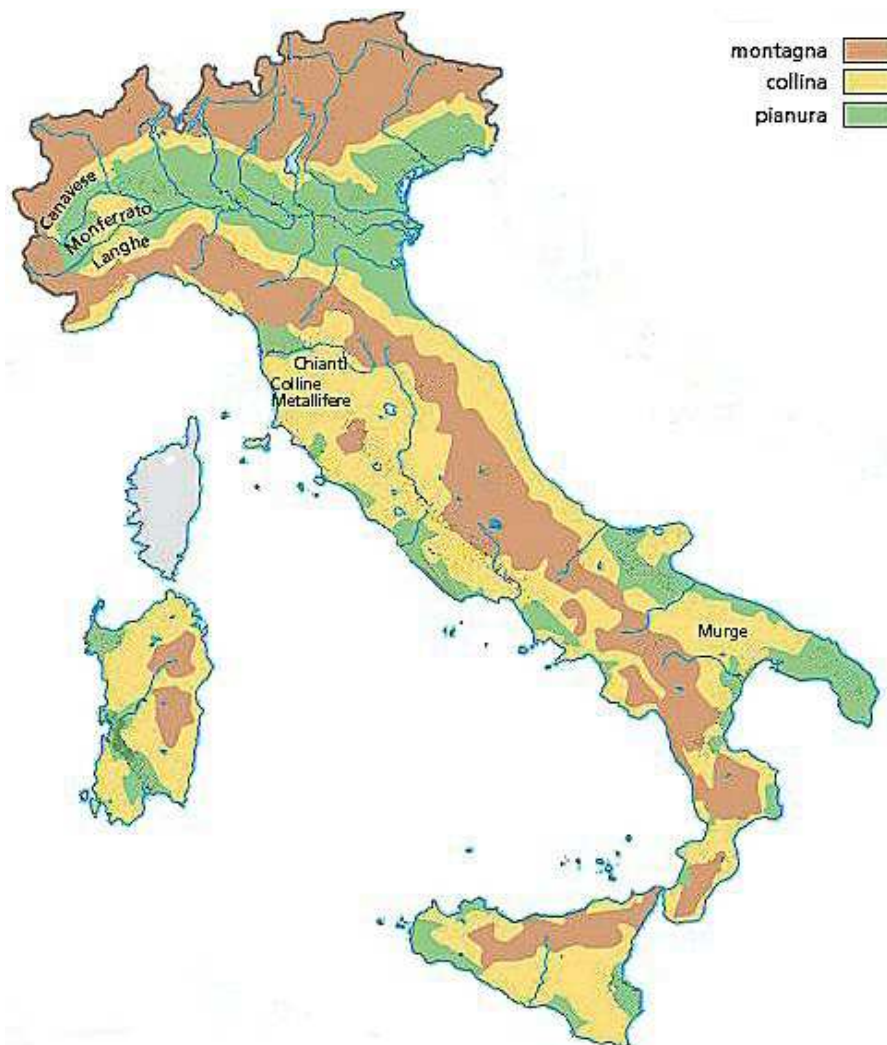
# LE COLLINE IN ITALIA

La maggior parte del territorio italiano è occupato dalle **colline**. Tanti anni fa, i paesi italiani venivano costruiti sulle colline per difendersi dai nemici.








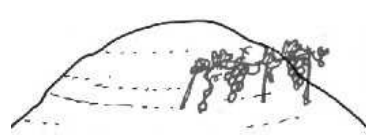




Le colline italiane più importanti sono:

- a nord: le **Langhe**, il **Monferrato** e il **Canavese**
- al centro: il **Chianti** e le **Colline Metallifere**
- a sud: le **Murge** in Puglia.



## VERIFICA

**Scrivi sui puntini le parole che mancano:**

	
Le montagne superano i .....metri	Le colline non superano i .....metri
	
In montagna quasi tutte le cime sono .....	In collina quasi tutte le cime sono .....
	
In montagna fa più .....	In collina fa più .....
	
In montagna ci sono ..... campi coltivati.	In collina ci sono ..... campi coltivati.
	
In montagna ci sono poche.....	In collina ci sono molte.....

# LE PIANURE IN ITALIA

In Italia le **pianure** sono piccole e si trovano vicino ai fiumi e alle coste.

La **Pianura Padana** è la più grande e si trova nell'Italia Settentrionale, tra le Alpi e gli Appennini.

Il suo nome viene dal fiume **Po** che i romani chiamavano **Padus**.

Il **Tavoliere di Puglia** è la seconda pianura italiana.



- ① Pianura Padana
- ② Maremma in Toscana
- ③ Agro Pontino nel Lazio
- ④ Tavoliere di Puglia
- ⑤ Pianura Campana
- ⑥ Piana di Catania in Sicilia
- ⑦ Campidano in Sardegna



## **Parole-chiave** →

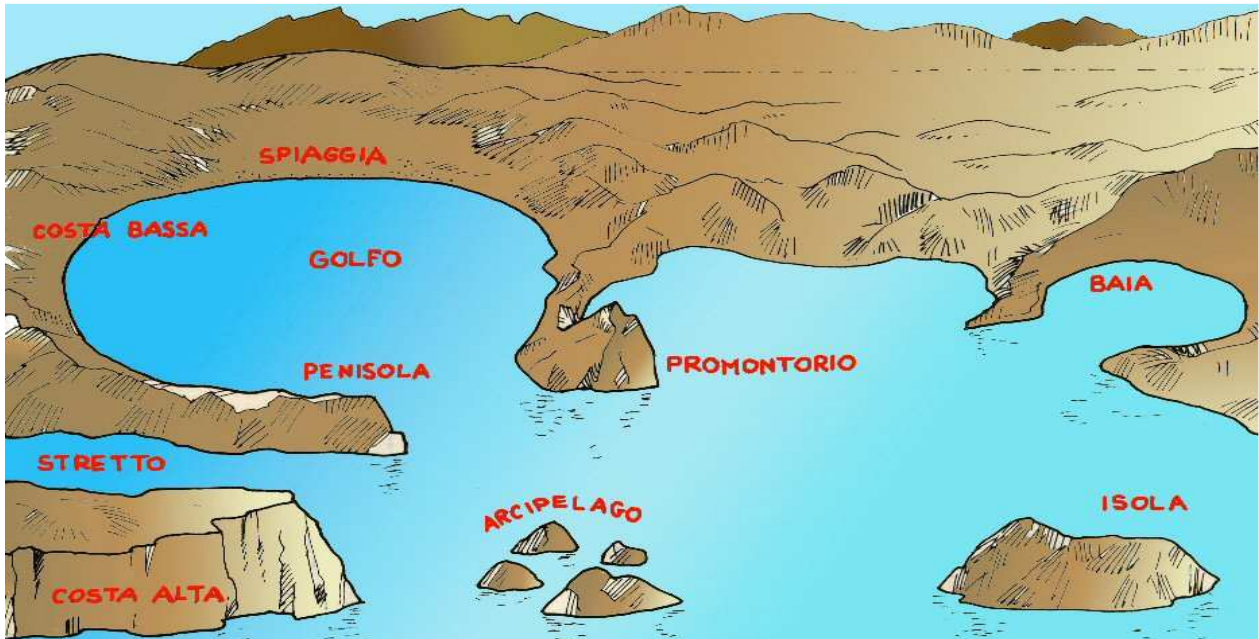
- **PIANURA:** terreno quasi completamente diritto, piatto, dove non ci sono montagne e colline. In pianura è più facile coltivare i campi, costruire le strade, le case le fabbriche.

# IL MARE

Il **mare** è una grandissima quantità di acqua salata.

Il mare può essere più o meno **profondo** perché anche in fondo al mare ci sono montagne e pianure.

Sulle carte geografiche, se l'azzurro è più scuro vuol dire che il mare è molto profondo.







## Parole-chiave →

- **COSTA**: zona di confine fra la terra e il mare.
- **ISOLA**: una parte di terra completamente circondata dal mare.
- **ARCIPELAGO**: un gruppo di isole vicine.
- **PENISOLA**: una terra bagnata per tre parti dal mare.
- **GOLFO**: è una grande curva che fa il mare dentro la terra.
- **BAIA**: è una curva più piccola, con l'entrata stretta.
- **PROMONTORIO**: un pezzo di montagna che va dentro il mare.
- **STRETTO**: una striscia di mare, tra due terre, che unisce due mari.
- **COSTA ALTA**: quando la montagna finisce di colpo sul mare.
- **COSTA BASSA**: quando la terra finisce direttamente nel mare.
- **SPIAGGIA**: un pezzo di costa bassa ricoperto di sabbia o di sassolini.



**VERIFICA** ✍

<p>Disegna un'isola →</p>	
<p>Disegna un arcipelago →</p>	
<p>La penisola è una terra bagnata per ..... parti dal .....</p>	
<p>Costa .....</p>	
<p>Costa .....</p>	
<p>Lo stretto è una striscia di mare che unisce due .....</p>	

# I MARI E LE COSTE IN ITALIA

L'Italia si trova nel **Mare Mediterraneo**:

il **Mar Ligure** a nord-ovest

il **Mar Tirreno** a ovest

il **Mare Adriatico** a est

il **Mar Ionio** a sud-est

 *Scrivi sui puntini i nomi dei mari:*

## LE COSTE

Nel **Mare Adriatico** le coste sono basse e ci sono molte spiagge.

Nel **Mar Ligure** e nel **Mar Tirreno** ci sono molti golfi e promontori.

In **Toscana** e nel **Lazio** le coste sono basse e sabbiose.

In **Sardegna** le coste sono rocciose.



## GOLFI E PORTI

In Italia i golfi più grandi e importanti sono:

il **Golfo di Genova**, il **Golfo di Venezia**, il **Golfo di Napoli** e il **Golfo di Taranto**.

In questi golfi ci sono anche dei porti.

**Parole-chiave** →

- **PORTO**: la stazione delle navi. Di solito si trova in un golfo dove non ci sono le onde e il vento.

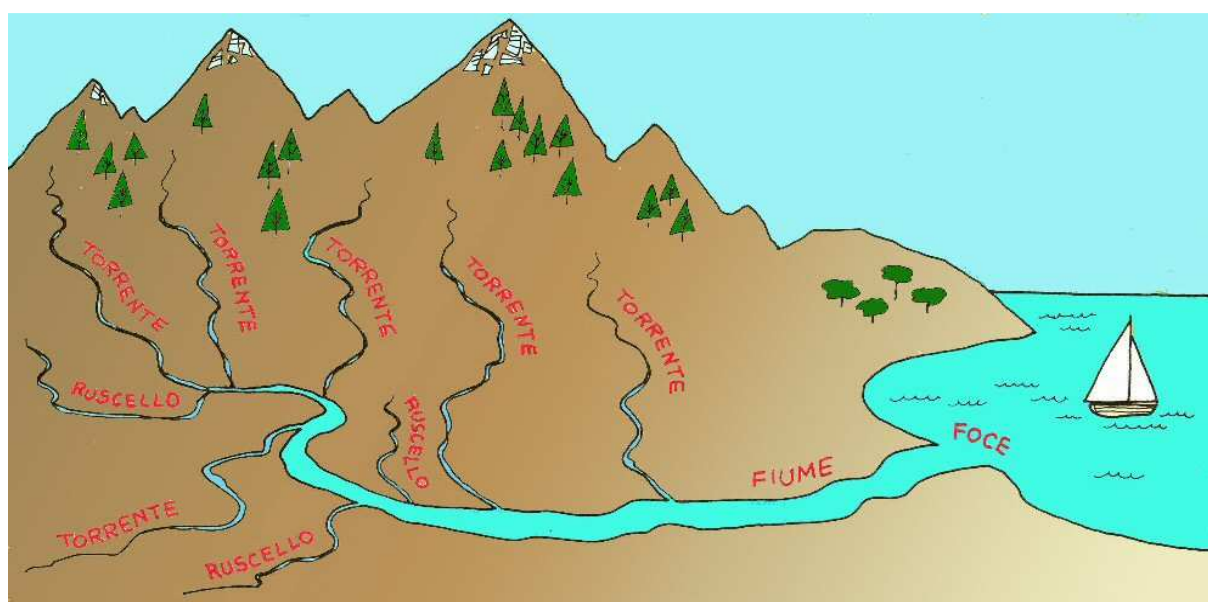
# IL FIUME

Il **fiume** è una lunga striscia di acqua dolce dove si raccoglie la pioggia e l'acqua dei **torrenti** e dei **ruscelli** che scendono dalle montagne. Il fiume scorre nella valle e in pianura.

Dalle montagne alte nascono fiumi grandi e con molta acqua. Dalle montagne più basse nascono fiumi piccoli e con meno acqua.

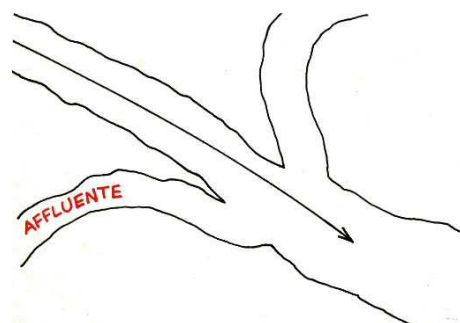
Il fiume finisce nel mare in un punto che si chiama **foce**.

In un fiume possono arrivare altri fiumi più piccoli che si chiamano **affluenti**.



## Parole-chiave → :

- **TORRENTE**: striscia d'acqua che scende dalle montagne quando piove.
- **RUSCELLO**: torrente più piccolo.
- **AFFLUENTE**: un fiume che va finire in un altro fiume.
- **FOCE**: il punto dove il fiume entra nel mare.

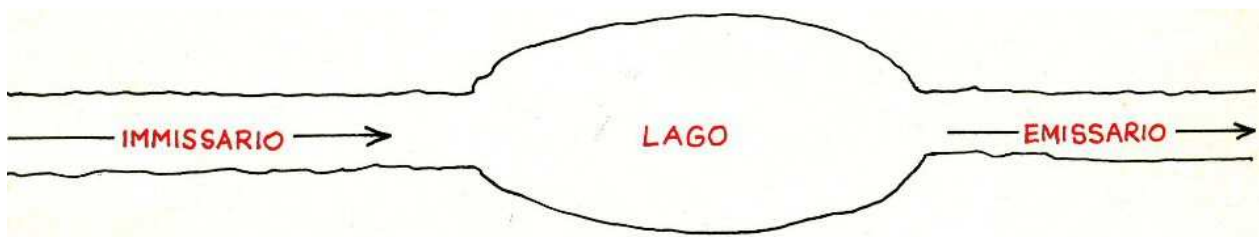


# IL LAGO

Molte volte il fiume entra in una specie di buco nel terreno e forma un **lago**.

Quando entra nel lago, il fiume si chiama **immissario**.

Quando il fiume esce dal lago, si chiama **emissario**.



Un lago è **aperto** quando il fiume esce ( emissario).

Un lago è **chiuso** quando il fiume non esce più e si ferma.

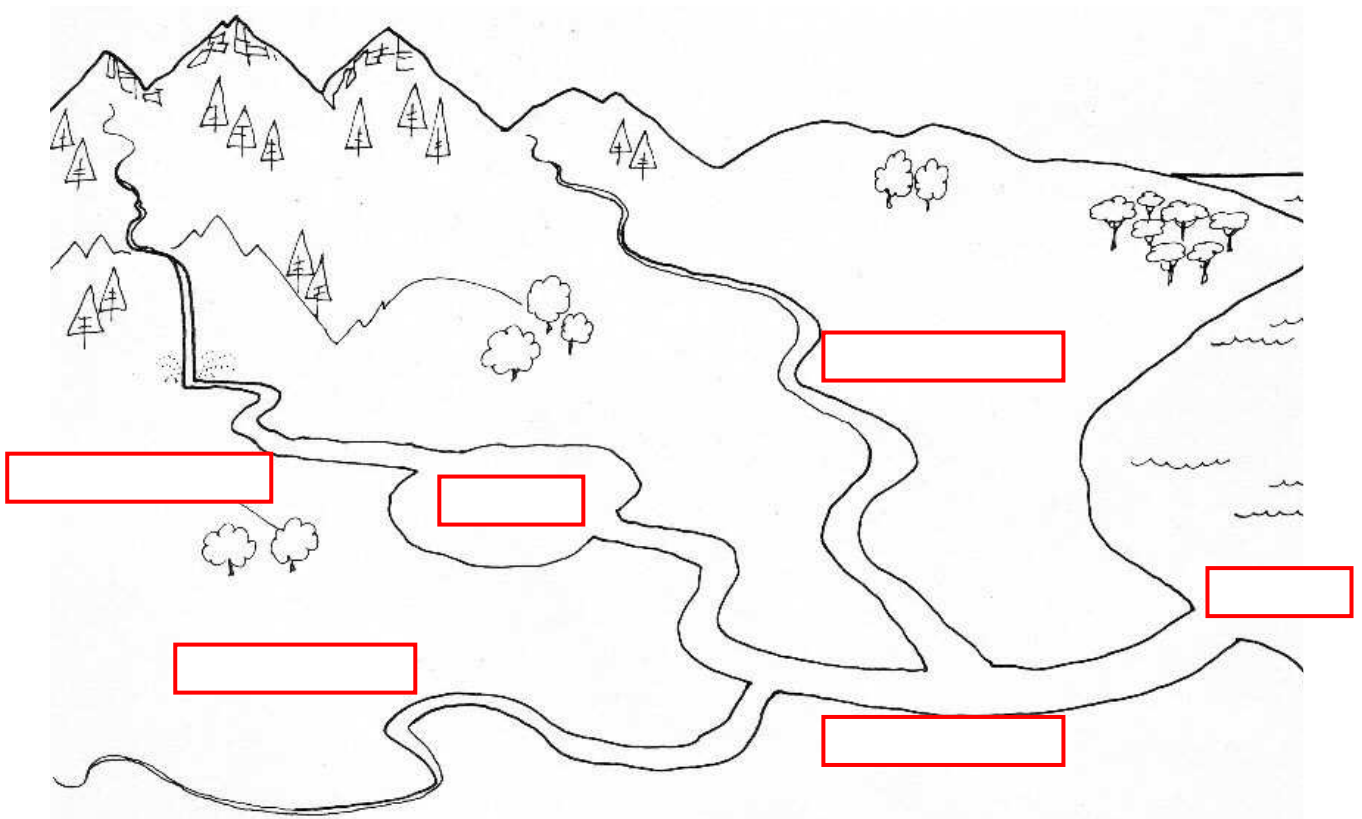
EMISSARIO



## VERIFICA

*Scrivi le parole nei cartellini rossi:*

<b>LAGO</b>	<b>AFFLUENTE</b>	<b>EMISSARIO</b>
<b>IMMISSARIO</b>	<b>FOCE</b>	<b>AFFLUENTE</b>



# I FIUMI E I LAGHI IN ITALIA

I fiumi **alpini** raccolgono l'acqua dei ghiacciai, sono ricchi di acqua e sono i più importanti e i più lunghi.

I fiumi **appenninici** raccolgono le piogge e sono pieni di acqua in autunno e in primavera, ma sono quasi asciutti d'estate.

Il **Po** è il fiume più lungo d'Italia (652 Km).

Il Po riceve le acque di quasi tutti i fiumi della **Pianura Padana** che scendono dalle Alpi (**affluenti di sinistra**) e degli Appennini (**affluenti di destra**).

 **Osserva la cartina e scrivi i nomi degli affluenti:**

AFFLUENTI DI SINISTRA	AFFLUENTI DI DESTRA



Ai piedi delle **Alpi** si trovano i più grandi laghi italiani:

**Lago di Como, Lago Maggiore, Lago di Garda, Lago di Lugano, ecc.**

Sono lunghi e stretti, molto profondi e circondati dalle montagne.

**Nell'Italia Centrale** si trovano : il **Trasimeno, il Lago di Bolsena, il Lago di Bracciano, ecc.**

**Nell'Italia Meridionale** (del sud) si trovano: il **Lago di Lesina** e il **Lago di Varano**.



# IL CLIMA

In televisione, dopo il telegiornale, fanno vedere delle cartine che spiegano le **condizioni metereologiche**:

- **le temperature**: quando misuri il calore di qualcosa, prendi la temperatura (minima, media, massima).
- **le precipitazioni**: le piogge.
- i venti: moderati, forti, forza ...
- i mari: calmi, mossi, agitati



**Clima** vuol dire l'insieme delle **condizioni metereologiche** di un paese, una zona, una regione.

Il **clima** dipende da:

- la **latitudine**, cioè quanto un posto è vicino o lontano dall'**Equatore**. L'Equatore è la linea che indica la zona più calda della Terra.
- l'**altitudine** (l'altezza). In montagna più sali e più fa freddo.
- La **vicinanza al mare** e ai laghi perché l'acqua assorbe il calore durante l'estate e lo restituisce piano piano durante l'inverno.

# IL CLIMA IN ITALIA

Il clima nelle diverse regioni italiane non è uguale, ma cambia molto. L'Italia è lunga e stretta e perciò una regione può essere più o meno vicina all'Equatore.

La catena delle Alpi protegge l'Italia dai venti freddi del nord.

Gli Appennini fermano il brutto tempo che viene dal nord-ovest e per questo la costa adriatica è più secca della costa Tirrenica.



ZONE CLIMATICHE ITALIANE		
ALPINA		inverni freddi, estati brevi, molte precipitazioni piovose e nevose
PADANA		inverni freddi ed estati calde e <b>afose</b>
ADRIATICA		inverni freddi, estati calde e asciutte
APPENNINICA		inverni freddi, estati non molto calde e piovose
TIRENNICA		clima <b>mite</b> , piogge frequenti
MEDITERRANEA		estati molto calde, <b>siccità</b>

## Parole-chiave → :

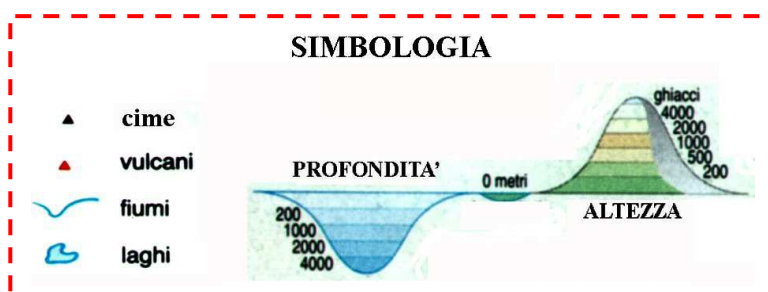
- ❑ **AFOSO**: molto caldo, soffocante.
- ❑ **MITE**: né caldo, né freddo.
- ❑ **SICCITÀ**: quando non piove per molto tempo.



# LA CARTINA FISICA

Se guardi la **cartina fisica** vedi:

- le montagne e quanto sono alte
- le catene montuose
- le colline
- le pianure
- i fiumi
- i laghi
- i mari e quanto sono profondi
- le coste
- i golfi
- le isole
- gli arcipelaghi
- gli stretti



## VERIFICA

**Scrivi nelle caselle le parole che mancano:**

Il Monte Bianco si trova nelle  .

Le Alpi sono più  degli Appennini.

Nel Mar Ligure si trova il Golfo di  .

Il Mar Tirreno è più  del Mare Adriatico.

Le isole più grandi dell'Italia sono la  e la  .

Lo stretto di Messina unisce il Mar  e il Mar  .

Le Isole Eolie o Lipari sono un  .

# LA CARTINA POLITICA

Se guardi la **CARTINA POLITICA** vedi:

- i confini
- le regioni
- la capitale
- i capoluoghi di regione
- i capoluoghi di provincia
- .....

## VERIFICA

L'Italia confina con:

la  a NORD OVEST.

la  e l'  a NORD.

la  a NORD EST.

La capitale è dell'Italia è  .

L'Italia è divisa in 20  .

Il capoluogo della Valle d'Aosta è  .

Il capoluogo del Piemonte è  .

Venezia è il capoluogo del  .


Napoli si trova in  .

Potenza si trova in  .

La Sicilia e la Sardegna sono due isole, ma sono anche due

.

# ITALIA IN BREVE



- **Continente:** Europa
- **Territorio:** penisola a forma di stivale
- **Superficie:** 301.338 Km<sup>2</sup>
- **Popolazione:** 59.337.888 abitanti
- **Capitale:** Roma
- **Governo:** Repubblica Parlamentare
- **Costituzione:** 1 gennaio 1948
- **Festa nazionale:** 2 giugno
- **Moneta:** Euro dal 2002
- **Lingua ufficiale :** italiano
- **Bandiera:** bianca, rossa e verde
- **Inno nazionale:** Fratelli d'Italia

*Fratelli d'Italia  
L'Italia s'è desta,  
Dell'elmo di Scipio  
S'è cinta la testa.  
Dov'è la Vittoria?  
Le porga la chioma,  
Ché schiava di Roma  
Iddio la creò.  
Stringiamoci a coorte  
Siam pronti alla morte  
L'Italia chiamò.*

# REGIONI E PROVINCE IN ITALIA

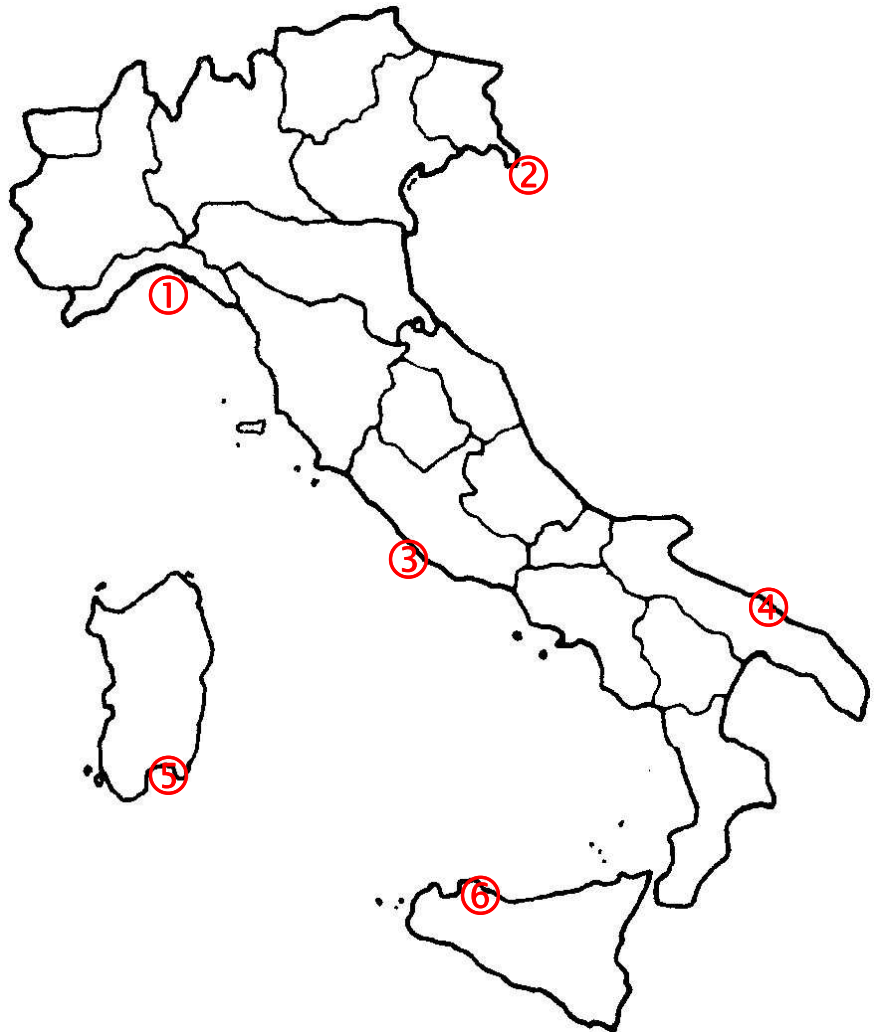


<b>REGIONE</b>	<b>CAPOLUGO DI REGIONE</b>	<b>CAPOLUOGHI DI PROVINCIA</b>
Valle d'Aosta	Aosta	Aosta
Piemonte	Torino	Alessandria, Asti, Biella, Cuneo, Novara, Torino, Verbano-Cusio-Ossola, Vercelli
Liguria	Genova	Genova, Imperia, La Spezia, Savona
Lombardia	Milano	Bergamo, Brescia, Como, Cremona, Lecco, Lodi, Mantova, Milano, Pavia, Sondrio, Varese
Trentino Alto Adige	Trento	Bolzano, Trento
Veneto	Venezia	Belluno, Padova, Rovigo, Treviso, Venezia, Verona, Vicenza
Friuli Venezia Giulia	Trieste	Gorizia, Pordenone, Trieste, Udine
Emilia-Romagna	Bologna	Bologna, Ferrara, Forlì-Cesena, Modena, Parma, Piacenza, Ravenna, Reggio Emilia, Rimini
Toscana	Firenze	Arezzo, Firenze, Grosseto, Livorno, Lucca, Massa-Carrara, Pisa, Pistoia, Prato, Siena
Marche	Ancona	Ancona, Ascoli Piceno, Macerata, Pesaro e Urbino
Umbria	Perugia	Perugia, Terni
Lazio	Roma	Frosinone, Latina, Rieti, Roma, Viterbo
Abruzzo	L'Aquila	L'Aquila, Chieti, Pescara, Teramo
Molise	Campobasso	Campobasso, Isernia
Campania	Napoli	Avellino, Benevento, Caserta, Napoli, Salerno
Puglia	Bari	Bari, Brindisi, Foggia, Lecce, Taranto
Basilicata	Potenza	Matera, Potenza
Calabria	Catanzaro	Catanzaro, Cosenza, Crotona, Reggio Calabria, Vibo Valentia
Sicilia	Palermo	Agrigento, Caltanissetta, Catania, Enna, Messina, Palermo, Ragusa, Siracusa, Trapani
Sardegna	Cagliari	Cagliari, Carbonia-Iglesias, Medio Campidano, Nuoro, Ogliastra, Olbia-Tempio, Oristano, Sassari

## VERIFICA

### Colora:

-  la Lombardia
-  la Puglia
-  la Campania
-  la Valle d'Aosta
-  l'Emilia Romagna



### Scrivi i nomi dei capoluoghi di regione:

- ① .....
- ② .....
- ③ .....
- ④ .....
- ⑤ .....
- ⑥ .....