

gli aspetti ambientali

La carta dei paesaggi italiani

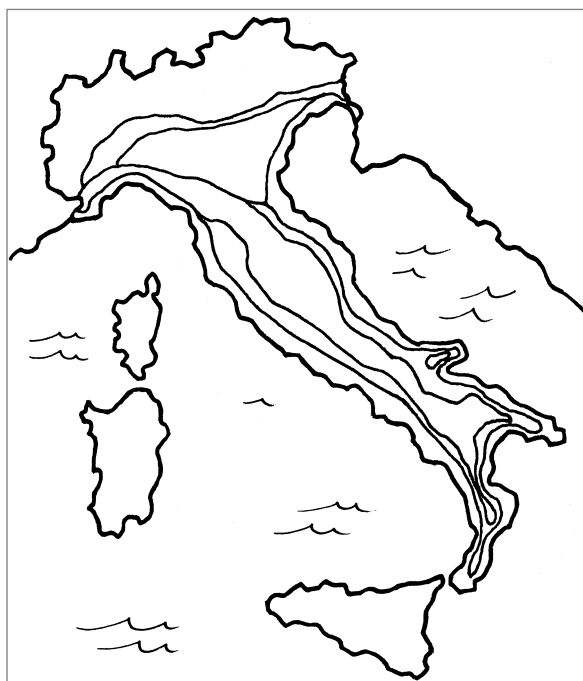
- 1 - Colora la cartina dei grandi paesaggi italiani, seguendo le indicazioni della legenda.

paesaggio alpino = verde

paesaggio appenninico = rosso

paesaggio padano = giallo

paesaggio coste e isole = azzurro



- 2 - Osserva la cartina e con l'aiuto di un atlante o del tuo libro di testo indica a quale paesaggio appartengono queste località italiane.

località	grandi paesaggi	località	grandi paesaggi
Bari		Padova	
Bologna		Cortina d'Ampezzo	
Cagliari		Genova	
Matera		L'Aquila	
Milano		Reggio Calabria	
Siena		Napoli	
Palermo		Lecce	
Perugia		Sondrio	
Roma		Udine	
Torino		Trieste	
Ancona		Campobasso	

- 3 - Rispondi.

In quale grande paesaggio si trova la regione in cui vivi?

Il paesaggio alpino

1 - Colora la zona del paesaggio alpino e le regioni nelle quali essa si estende.



2 - Osserva le due cartine e indica in tabella le regioni nelle quali si estende il paesaggio alpino e quale parte della regione esso occupa (nord, sud, est, ovest).

regioni in cui si estende	occupa la parte

gli aspetti ambientali


Gli elementi del paesaggio alpino

1 - Indica con una crocetta quali dei seguenti elementi sono caratteristici del paesaggio alpino.

Laghi artificiali, formati da dighe	
Coste basse e sabbiose	
Boschi di conifere	
Ampi spazi coltivati	
Trafori e viadotti per il traffico stradale e ferroviario	
Autostrade ampie e rettilinee	
Spazi coltivati ristretti	
Centri abitati piccoli e raccolti	
Grandi città	
Ampi spazi naturali dedicati all'allevamento	
Vegetazione naturale e selvaggia, che risente poco dell'intervento umano	
Ampi corsi d'acqua	
Terreni accidentati e rocciosi	

2 - Assegna a ogni altitudine gli aspetti ambientali corrispondenti.

boschi di latifoglie • rocce e ghiacciai • prati di alta montagna • boschi di aghifoglie

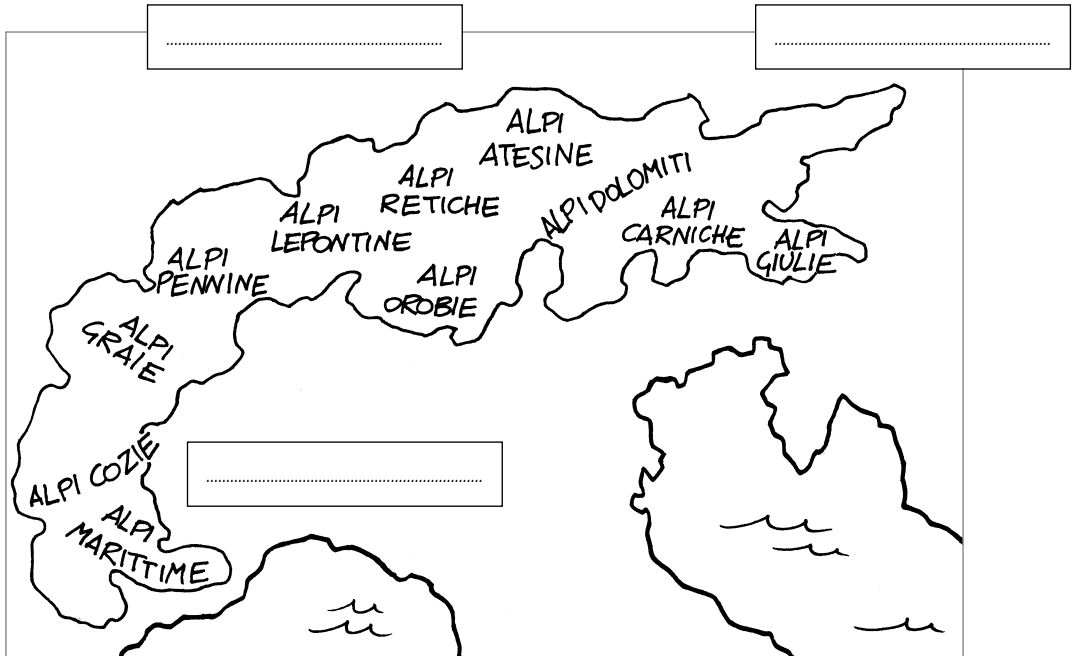


gli aspetti ambientali

L'arco alpino

- 1 - Con l'aiuto del tuo libro di testo o di un atlante, completa la cartina dell'arco alpino scrivendo i nomi dati nel riquadro esatto.

occidentali • centrali • orientali



- 2 - Osserva la cartina e suddividi l'arco alpino in modo appropriato.

Alpi occidentali	
Alpi centrali	
Alpi orientali	

- 3 - Completa la tabella scrivendo quali Alpi si trovano nelle regioni indicate.

Piemonte	
Valle d'Aosta	
Lombardia	
Trentino Alto Adige	
Veneto	
Friuli Venezia Giulia	
Liguria	

gli aspetti ambientali

Le pianure italiane

1 - Colora le principali pianure italiane e collega a ciascuna il suo nome.

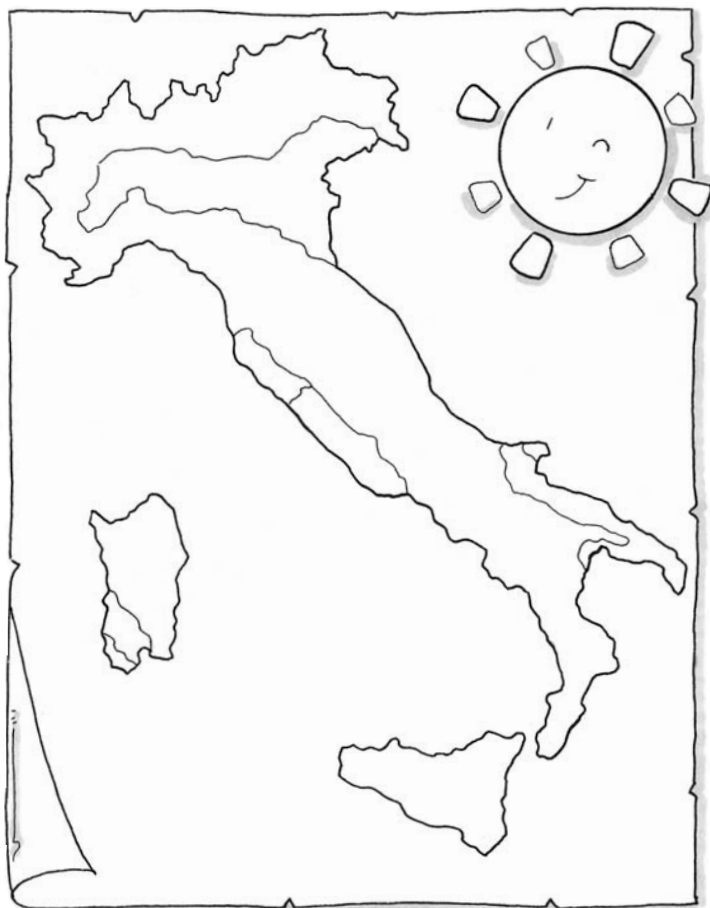
Padano-Veneta

Agro Pontino

Campidano

Tavoliere delle Puglie

Maremma



2 - Disponi in ordine crescente le tre pianure più estese.

1. 2. 3.

3 - Quali delle seguenti grandi città si trovano in pianura? Segna la risposta esatta con una crocetta e scrivi in quale pianura sorgono.

città	si trova in pianura?	pianura...
Genova	SÌ - NO	
Torino	SÌ - NO	
Bologna	SÌ - NO	
Milano	SÌ - NO	
Roma	SÌ - NO	
Napoli	SÌ - NO	
Bari	SÌ - NO	

Il paesaggio padano

- 1 - Colora la zona del paesaggio padano e le regioni nelle quali essa si estende.



- 2 - Osserva le due cartine e indica in tabella le regioni nelle quali si estende il paesaggio padano e quale parte della regione esso occupa (nord, sud, est, ovest).

regioni in cui si estende	occupa la parte

gli aspetti ambientali

Gli elementi del paesaggio padano

- 1 - Indica con una crocetta quali dei seguenti elementi sono caratteristici del paesaggio padano.

Coste basse e sabbiose	
Boschi di latifoglie	
Ampi spazi coltivati	
Trafori e viadotti per il traffico stradale e ferroviario	
Autostrade ampie e rettilinee	
Spazi coltivati ristretti	
Campagna punteggiata da abitazioni, cascine e aziende agricole	
Presenza di grandi città	
Ampi spazi naturali dedicati all'allevamento	
Ampi corsi d'acqua	
Grandi industrie e zone industriali	


- 2 - Leggi il testo e assegna a ogni parte del disegno il nome corrispondente.

La pianura a nord del Po è suddivisa in due zone distinte: l'alta e la bassa pianura. Questa distinzione è basata sulla diversa natura del suolo.

L'alta pianura è formata da un suolo più arido, che trattiene meno l'acqua, perché composto da ciottoli e ghiaie.

La bassa pianura al contrario è formata da un suolo argilloso, poco permeabile, che quindi trattiene l'acqua restando umido.

Le ragioni di queste differenze sono da ricercare nell'origine delle due zone. L'alta pianura si trova a ridosso della fascia montana ed è formata dalle ghiaie portate da fiumi e torrenti. La bassa pianura invece è formata da sabbie e argilla depositate dalle acque dei fiumi.



gli aspetti ambientali

Il paesaggio appenninico

1 - Colora la zona del paesaggio appenninico e le regioni nelle quali essa si estende.



2 - Osserva le due cartine e indica in tabella le regioni nelle quali si estende il paesaggio appenninico e quale parte della regione esso occupa (nord, sud, est, ovest).

regioni in cui si estende	occupa la parte	regioni in cui si estende	occupa la parte

gli aspetti ambientali

Gli elementi del paesaggio appenninico

- 1 - Leggi il testo e con l'aiuto del tuo libro di testo completa il disegno scrivendo in ogni riquadro il nome esatto.

Gli Appennini non costituiscono in realtà una sola catena montuosa, ma un insieme di piccole catene che si susseguono l'una dopo l'altra. Sono catene montuose recenti, ancora in formazione, lungo le quali il rischio di terremoti è molto alto.

Esse sono otto, a loro volta raggruppate in tre grandi sezioni: Appennino settentrionale, centrale e meridionale.

settentrionale • centrale • meridionale



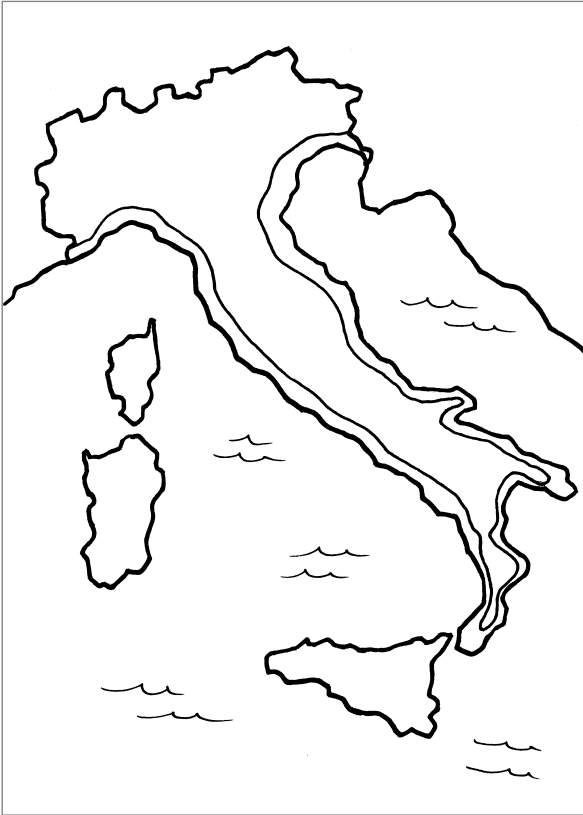
- 2 - Indica con una crocetta quali dei seguenti elementi sono caratteristici del paesaggio appenninico.

Coste basse e sabbiose	
Boschi di latifoglie	
Ampi spazi coltivati	
Trafori e viadotti per il traffico stradale e ferroviario	
Autostrade ampie e rettilinee	
Spazi coltivati ristretti	
Campagna punteggiata da abitazioni, cascine e aziende agricole	
Presenza di grandi città	
Ampi spazi naturali dedicati all'allevamento	
Ampi corsi d'acqua	
Grandi industrie e zone industriali	

gli aspetti ambientali

Il paesaggio delle coste e delle isole

- 1 - Colora la zona del paesaggio delle coste e delle isole e le regioni nelle quali essa si estende.



- 2 - Osserva le due cartine e indica in tabella le regioni nelle quali si estende il paesaggio delle coste e delle isole e quale parte della regione esso occupa (nord, sud, est, ovest).

regioni in cui si estende	occupa la parte	regioni in cui si estende	occupa la parte

gli aspetti ambientali

Gli elementi del paesaggio di coste e isole

- 1 - Indica con una crocetta quali dei seguenti elementi sono caratteristici del paesaggio di coste e isole.

Ferrovie e aeroporti	
Coste basse e sabbiose	
Coste alte e rocciose	
Boschi di pini marittimi	
Zone di macchia mediterranea	
Ampi spazi coltivati	
Trafori e viadotti per il traffico stradale e ferroviario	
Autostrade ampie e rettilinee	
Presenza di numerose grandi città	
Ampi spazi naturali dedicati all'allevamento	
Vegetazione naturale e selvaggia, che risente poco dell'intervento umano	
Grandi industrie e zone industriali	

- 2 - Assegna a ogni disegno il nome corrispondente.

laguna • grotta • scoglio • promontorio • insenatura • faraglione

