



Scrivi l'ambiente giusto per ognuno



Polo Nord



-----



-----



Città



-----



-----



<http://www.mammecomeme.com/>

Indica la **posizione** degli oggetti (<http://www.mammecomeme.com/>)

Che oggetto si trova a sinistra ? .....

I libri si trovano al .....

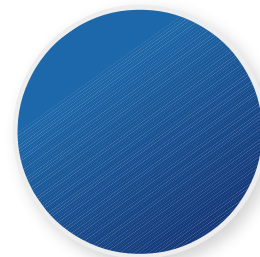


Che oggetto si trova a destra ? .....




Dove si trova il quadrato ? In basso a sinistra

Dove si trova il cerchio ? .....

Dove si trova il rettangolo ? .....





Metti in ordine i **giorni** della settimana

Martedì    Sabato    Lunedì    Domenica    Giovedì    Mercoledì    Venerdì

-----

Metti in ordine i **mesi** dell'anno

Marzo    Maggio    Dicembre    Settembre    Aprile    Novembre    Gennaio    Giugno    Agosto    Luglio  
Ottobre    Febbraio

-----  
-----

Metti in ordine le **stagioni**

**Autunno**    **Estate**    **Inverno**    **Primavera**

-----


<http://www.mammecomeme.com/>



Disegna tanti orologi e sposta le lancette secondo l'orario seguente

23 : 15	10 : 30	12 : 15	22 : 20	5 : 20	13 : 10	17 : 25
20 : 05	3 : 25	11 : 35	10 : 40	14 : 50	2 : 45	9 : 55

<http://www.mammecomeme.com/>



Scrivi per ogni azione il tempo che rappresenta

Il bambino gioca a palla. (Presente)  
Il nonno giocava con le biglie. (Passato)  
Il treno viaggerà velocissimo. ( Futuro)

Gli uomini primitivi vivevano nelle grotte. -----  
L'alunno ascolta la maestra. -----  
Gli aerei voleranno alla velocità della luce. -----

Il nonno scriveva con il pennino. -----  
L'indiano usava l'arco con le frecce. -----  
La guerra mondiale è scoppiata tanti anni fa. -----

L'astronave arriverà su Marte. -----  
La mamma parla al cellulare. -----  
La nonna filava la lana. -----

<http://www.mammecomeme.com/>