

FIUMI



LAGHI

ORIGINE DEI LAGHI

Il lago è una depressione della superficie terrestre dove si raccolgono le acque superficiali

LAGHI DI ORIGINE GLACIALE

ciò occupano le valli scavate da antichi ghiacciai, durante il periodo delle glaciazioni. Si trovano ai piedi delle Alpi



LAGHI DI ORIGINE VULCANICA

tipici dell'Italia centrale occupano il cratere di vulcani spenti, che nel corso dei secoli si sono riempiti di acqua e si riconoscono per la forma circolare.



LAGHI COSTIERI

lungo le coste si trovano separati dal mare da lingue di sabbia o dai detriti trasportati dai fiumi. La loro acqua è spesso salata



LAGHI ARTIFICIALI

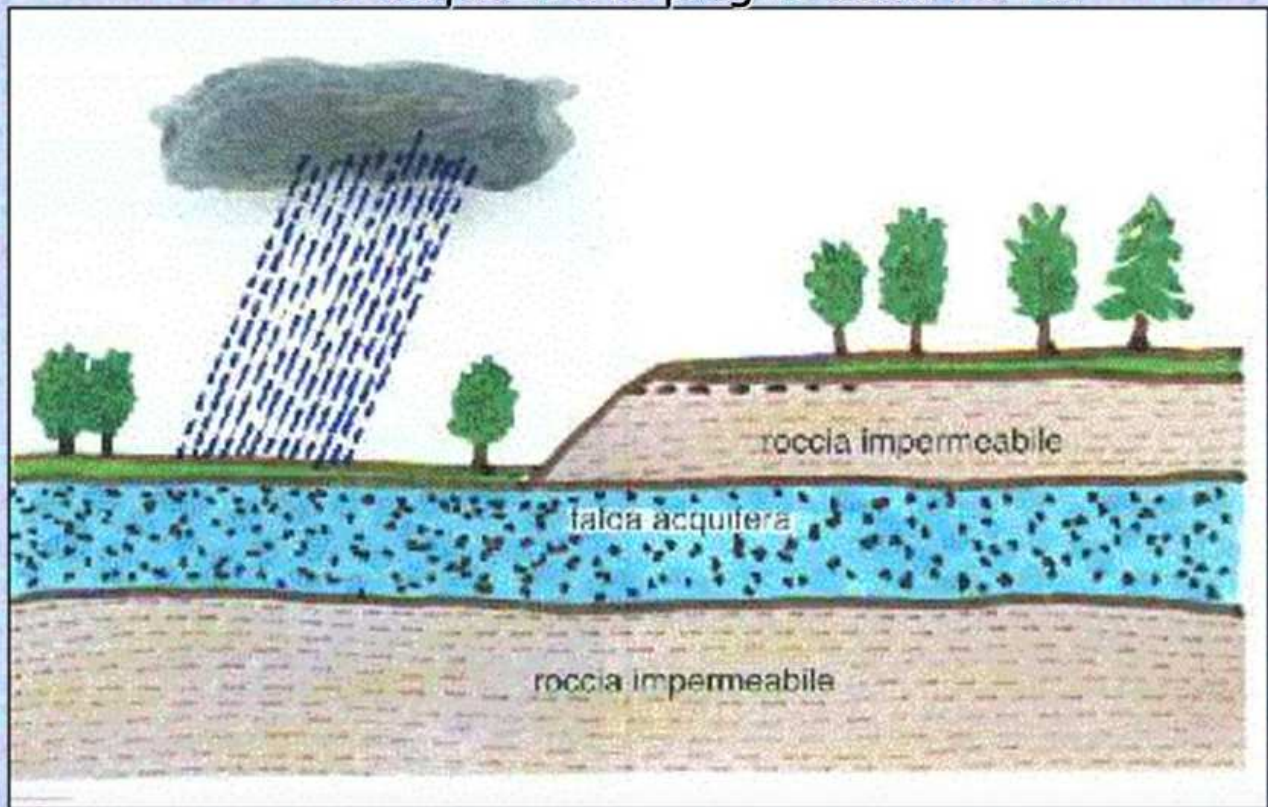
costruiti dall'uomo, sbarrando con le dighe il corso dei fiumi, per avere a disposizione delle riserve d'acqua

L'UOMO E I FIUMI

I fiumi aiutano l'uomo: forniscono ACQUA per IRRIGARE le coltivazioni, possono essere usati come vie di comunicazione (TRASPORTO di persone o cose sulle barche), possono produrre ENERGIA ELETTRICA (dighe)

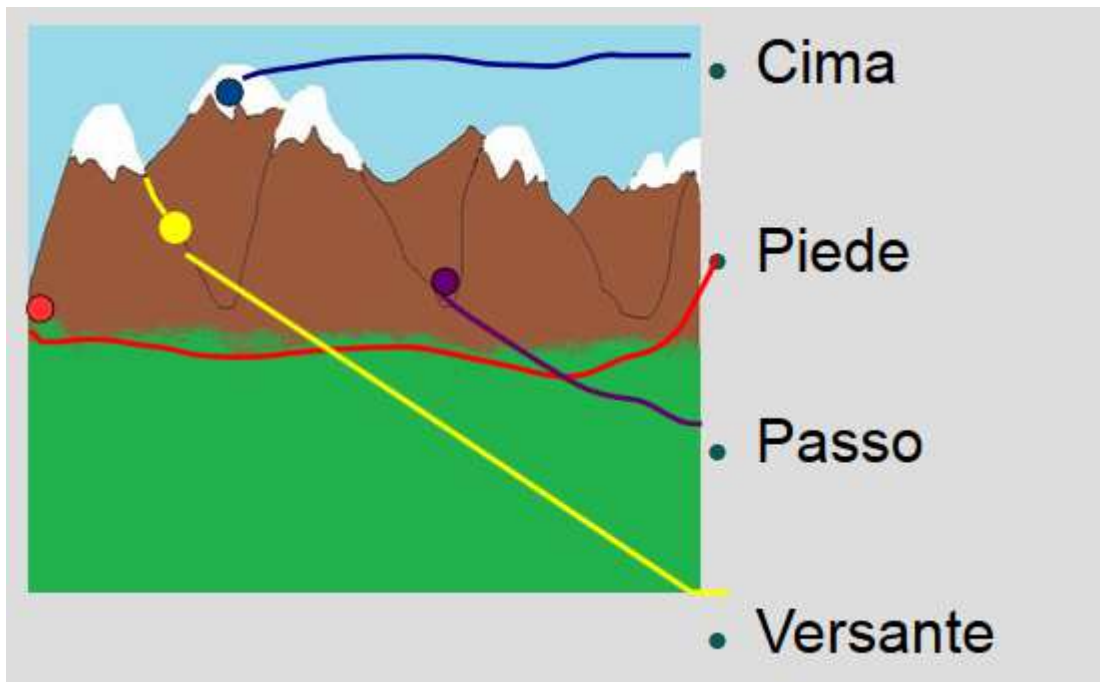
LE FALDE ACQUIFERE

Falda è una parola tedesca che vuol dire *piega*; le falde quindi sono una "raccolta" di acqua tra le pieghe della terra.

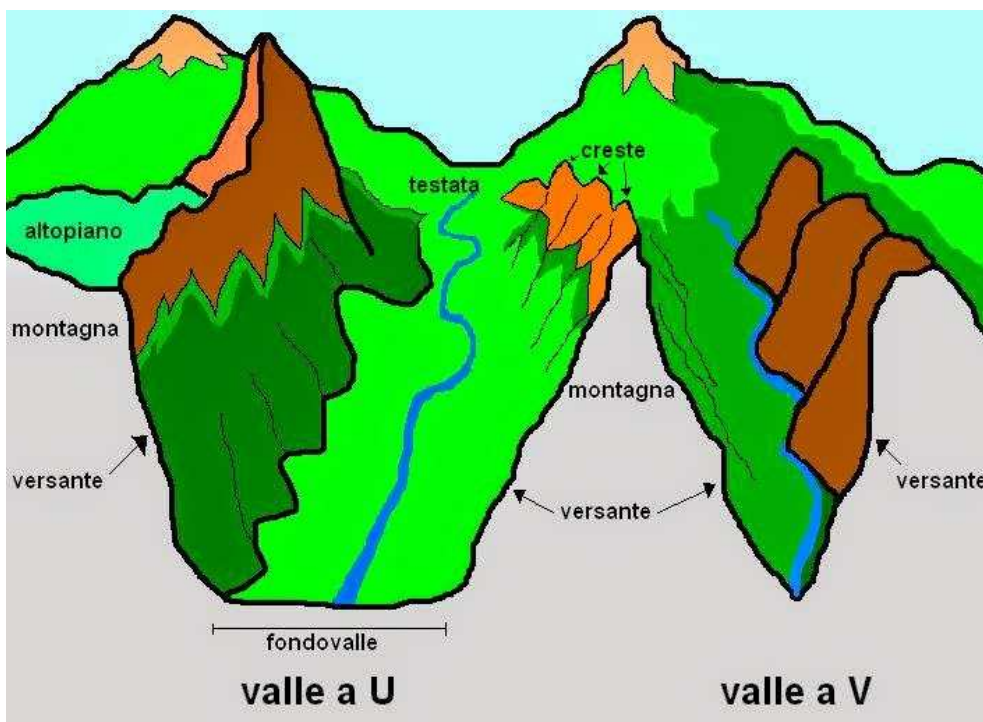


CATENE MONTUOSE

Un'insieme di montagne una di fianco all'altra



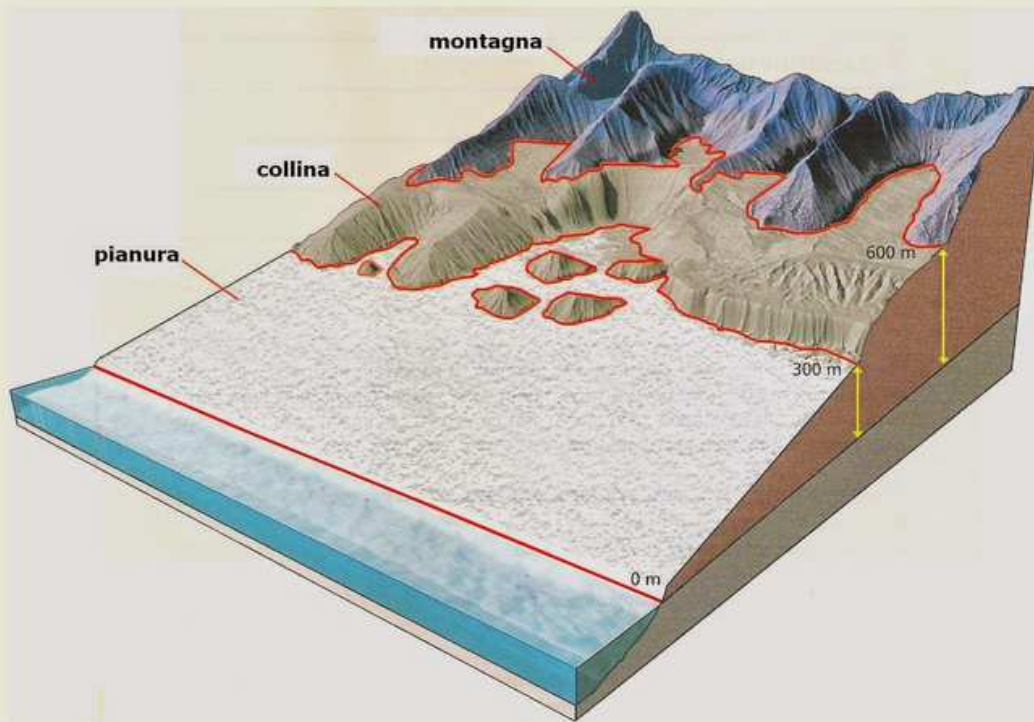
VALLE



L'UOMO E LA MONTAGNA

Dalla montagna l'uomo ricava **LEGNAME** dalle foreste, **ACQUA** dai fiumi (dighe-> energia elettrica), pratica **ALLEVAMENTO** negli **ALPEGGI** e **L'AGRICOLTURA** con i **TERRAZZAMENTI**

- 1- da 0 metri (cioè il livello del mare) a 300 metri abbiamo la **pianura**
- 2- da 300 metri a 600 metri la **collina**
- 3- da 600 metri in su la **montagna**.



le origini sono diverse



vulcaniche
hanno avuto origine
da vulcani spenti

i Colli Berici, i Colli Euganei
e Colli Albani



morenica
formate dai depositi di
ghiacciai ormai scomparsi
si trovano ai piedi delle Alpi

i colli del Garda



tettonica
si sono formate in
seguito al sollevamento
dei fondali marini

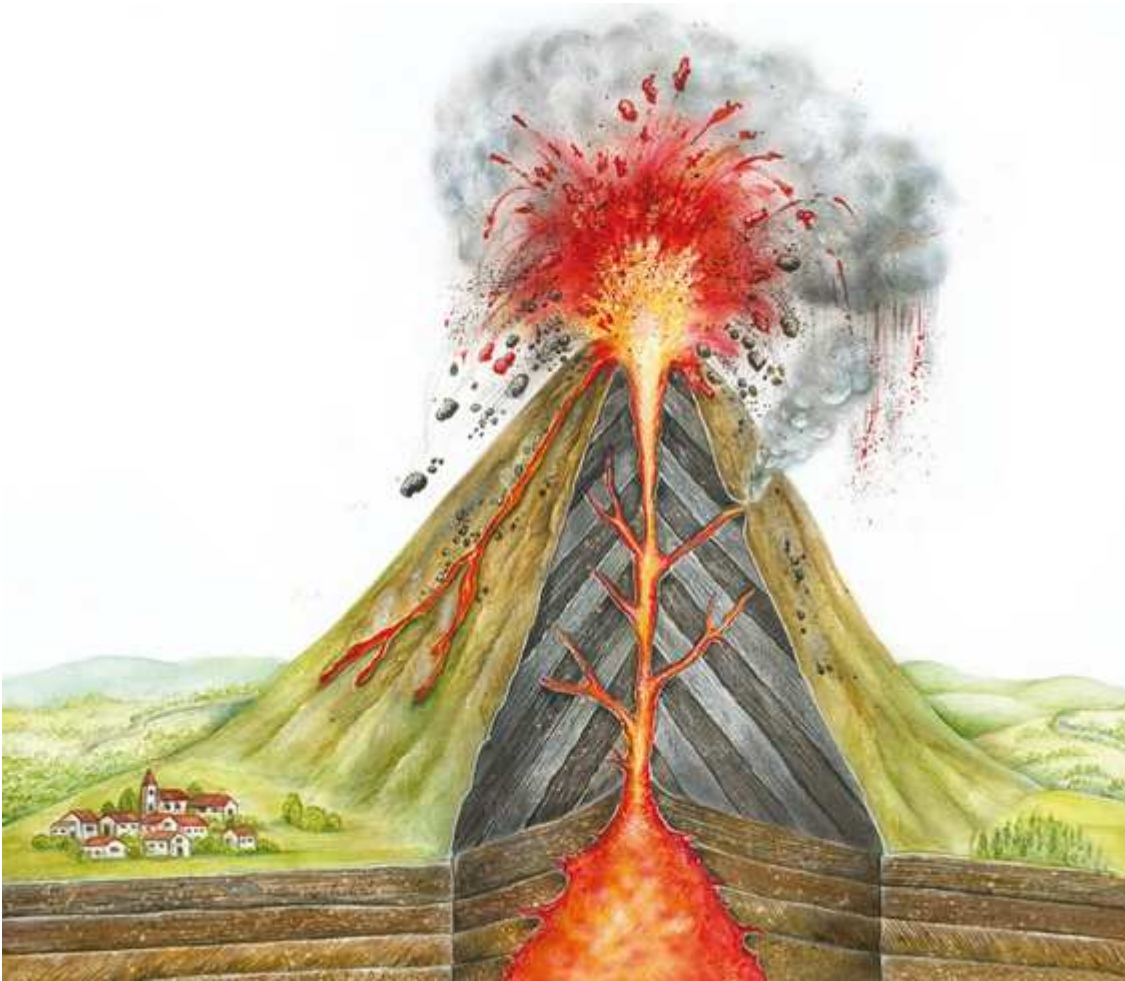
i colli delle Langhe,
del Monferrato e
alcuni rilievi
centro-settentrionali



Una frana



Un'alluvione



ERUZIONI VULCANICHE



TERREMOTO

VERIFICA

- Se io vivo in una casa a 850m, sono in pianura in collina o in montagna?
- Se io vivo in una casa a 450m, sono in pianura in collina o in montagna?
- Cos'è una catena montuosa?
- Costiero, artificiale, glaciale, vulcanico: scrivi il nome giusto sotto ogni foto



Torrente, fiume, ruscello: scrivi il nome giusto sotto ogni foto



- La montagna è utile all'uomo, scrivi almeno UN motivo.....
.....
- I fiumi sono utili all'uomo, scrivi almeno UN motivo.....
.....
- Piede, cima, versante, passo: scrivi il nome giusto di fianco ad ogni linea

