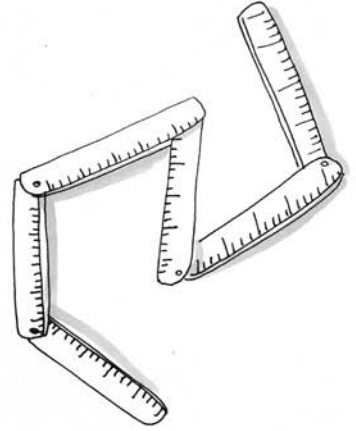



## Strumenti e grandezze

1 - Abbina a ogni grandezza lo strumento adeguato per misurarla. Usa delle frecce.



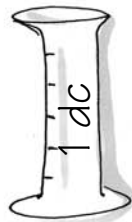

lunghezza

tempo

peso

massa

capacità



- Gli strumenti usati per misurare grandezze hanno tutti le medesime proprietà?  SÌ  NO
- Perché? .....
- Qual è la proprietà che caratterizza gli strumenti per misurare la capacità? Essere .....

# Misure di capacità

1 - Rifletti e completa.

Nell'uso comune si adoperano unità di misura di capacità che corrispondono anche a frazioni di litro:

• mezzo litro  $\longrightarrow$   $\frac{\quad}{\quad}$  di litro  $\longrightarrow$  ,  litri


• un quarto di litro  $\longrightarrow$   $\frac{\quad}{\quad}$  di litro  $\longrightarrow$  ,   litri

• un quinto di litro  $\longrightarrow$   $\frac{\quad}{\quad}$  di litro  $\longrightarrow$  ,   litri

Quindi: 1 litro  $\longrightarrow$  ..... mezzi litri

1 litro  $\longrightarrow$  ..... quarti di litro

1 litro  $\longrightarrow$  ..... quinti di litro



2 - Completa le frasi.

• Se 1 l equivale a 1 000 ml, allora 2 l equivalgono a ..... ml

• Se 1 l equivale a ..... cl, allora 3 l equivalgono a ..... cl

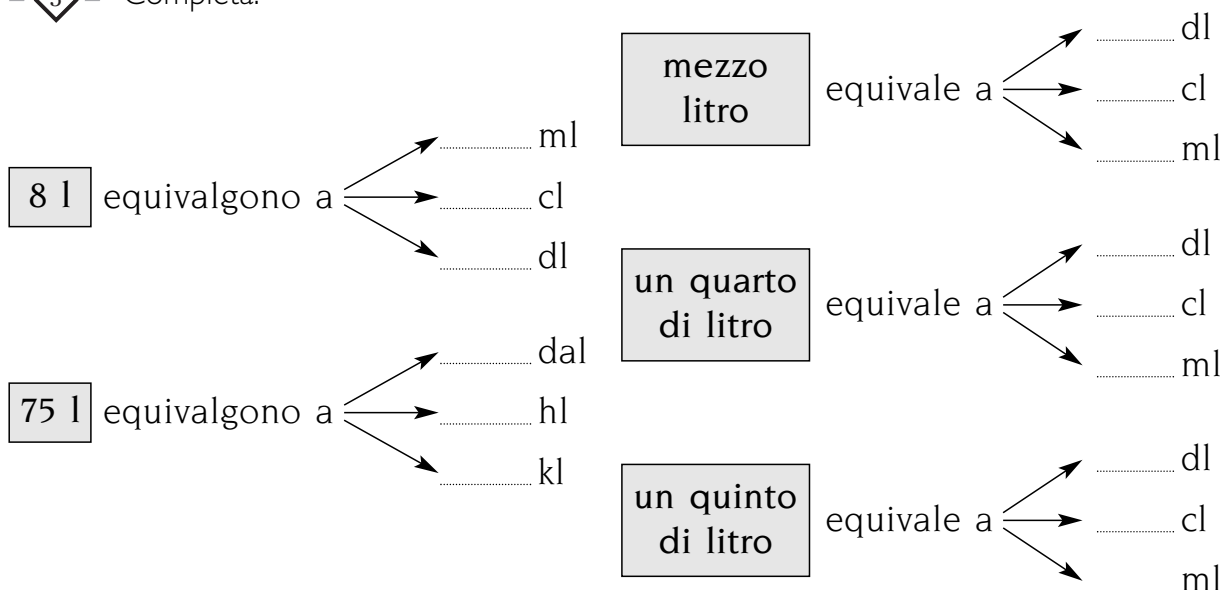
• Se 1 l equivale a ..... dl, allora 5 l equivalgono a ..... dl

• Se 1 l equivale a 0,1 dal, allora 4 l equivalgono a ..... dal

• Se 1 l equivale a 0,01 hl, allora 12 l equivalgono a ..... hl

• Se 1 l equivale a 0,001 kl, allora 9 l equivalgono a ..... kl

3 - Completa.



# Sulla linea del tempo

1 - Osserva la linea del tempo, completa e rispondi.

Prima di .....			..... Cristo		
Fondazione di Roma	Morte di Giulio Cesare	Nascita di Gesù	Fine impero occidentale	Egira	Incoronazione di Carlo Magno

- Carlo Magno è stato incoronato .....
- L'Egira è avvenuta .....
- La fine dell'Impero Romano d'Occidente è avvenuta .....
- La morte di Giulio Cesare è avvenuta .....
- La fondazione di Roma è avvenuta .....
- Da quale avvenimento si incominciano a contare gli anni? .....
- La nascita di Gesù è avvenuta .....
- In Occidente le date storiche sono relative alla .....