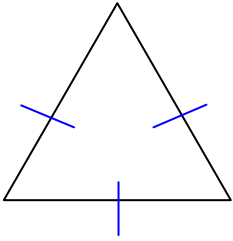
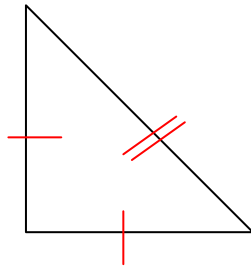


TUTTI I TRIANGOLI

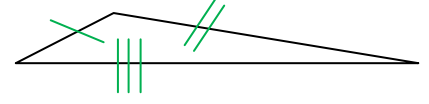
A. Osserva, misura e completa.



Ha 3 lati _____
e tre angoli _____,
perciò è un triangolo _____
e acutangolo.

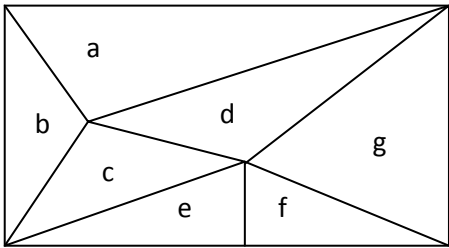


Ha 2 lati _____
e un angolo di 90° ,
cioè _____, perciò
è un triangolo _____
e rettangolo.



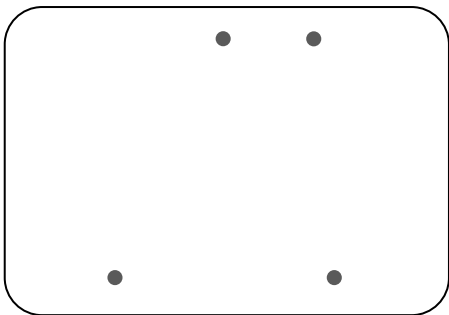
Ha 3 lati _____
e 1 angolo _____,
perciò è un triangolo _____
e _____.

B. Osserva i triangoli nel disegno e classificali scrivendo in tabella la lettera che li contraddistingue.

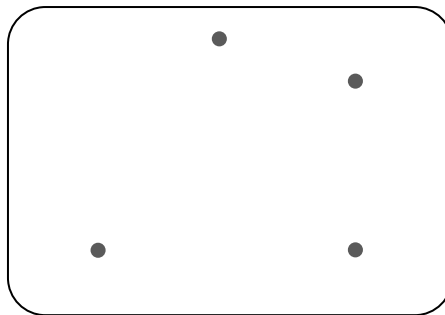


Triangoli acutangoli	Triangoli ottusangoli	Triangoli rettangoli


C. Unisci con il righello **tre** punti per formare il triangolo richiesto.



triangolo isoscele

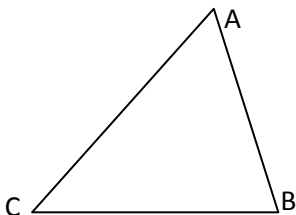


triangolo rettangolo

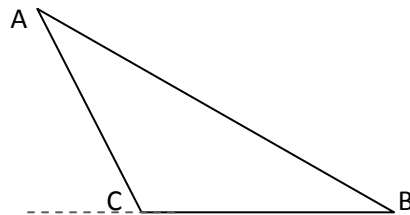


triangolo ottusangolo

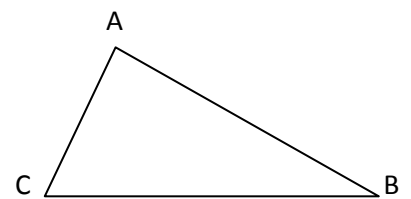
D. Ripassa in rosso la base e disegna l'altezza (h) dei seguenti triangoli; scrivi se è interna o esterna ad essi.



altezza _____



altezza _____



altezza _____