

# I TRIANGOLI

Ricorda


I **triangoli** possono essere classificati osservando le caratteristiche dei lati o degli angoli.

\* Osserva bene i lati dei triangoli e completa scegliendo il nome giusto tra quelli proposti.

isoscele

equilatero


scaleno



equilatero



scaleno



isoscele

\* Classifica i triangoli in base agli angoli.


rettangolo

ottusangolo

acutangolo



acutangolo



rettangolo



ottusangolo

\* Tra queste frasi ce n'è una falsa. Segnala con una ✗.

- Un triangolo rettangolo può essere isoscele.
- Un triangolo rettangolo può avere due angoli retti.
- La somma degli angoli interni di un triangolo è  $180^\circ$ .
- Ogni triangolo ha tre altezze.

\* Trova l'angolo mancante.

