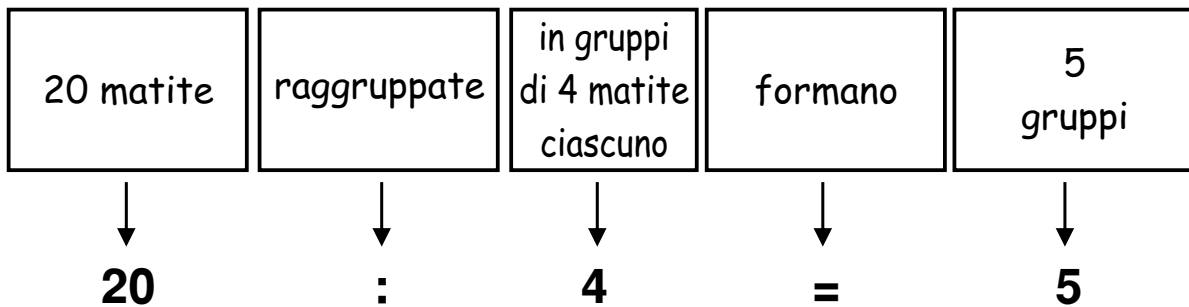



LA DIVISIONE di contenza


Rino ha 20 matite colorate e ne vuole dare 4 a ciascuno dei suoi amici.
Quanti amici potrà accontentare?

Aiuta Rino a formare i gruppi di matite da assegnare ad ogni bambino.



$20 : 4 = 5$ Dato che a ogni gruppo corrisponde un bambino, Rino può accontentare bambini.

La camiciaia cuce 7 bottoni su ogni camicia.
Quante camicie può confezionare con 28 bottoni




$$28 : 7 = \dots\dots$$

Quanti gruppi di 7?

La camiciaia può confezionare camicie.

LA DIVISIONE di contenenza

Marta ha comprato 18 uova e per non romperle le ripone in contenitori da 6 uova ciascuno. Quanti contenitori le occorrono?



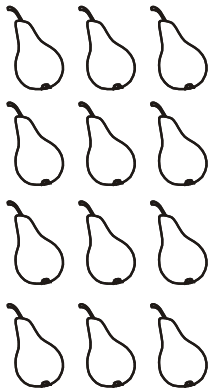
$$\dots : \dots = \dots$$

Quanti gruppi di 6?

A Marta occorrono contenitori.

In un cestino ci sono 12 pere. Devo metterne 3 per ogni piatto.

Di quanti piatti avrò bisogno?



$$\dots : \dots = \dots$$

Quanti gruppi di 3?

Avrò bisogno di piatti.

Nell'acquario ci sono 20 pesciolini. Se ne vengono messi 5 per vaso, quanti vasi occorreranno?




$$\dots : \dots = \dots$$

Quanti gruppi di 5?

Occorreranno vasi.

Un cameriere sta finendo di apparecchiare per il pranzo. Se ha ancora 8 bicchieri e vuole metterne 4 per tavolo, quanti tavoli preparerà?



$$\dots : \dots = \dots$$

Quanti gruppi di 4?

Preparerà tavoli.