

# LA COPPIA


Osserva e completa:

1 coppia di sposi



Quanti sposi in tutto?


$$2 \times 1 = \dots\dots\dots$$



Quanti buoi in tutto?

$$\dots\dots \times \dots\dots = \dots\dots$$

3 coppie di buoi



Quanti uccellini in tutto?

$$\dots\dots \times \dots\dots = \dots\dots$$

4 coppie di uccellini



Quanti ballerini in tutto?







$$\dots\dots \times \dots\dots = \dots\dots$$

4 coppie di ballerini

**RICORDA: 1 COPPIA = 2 elementi (2 persone, 2 animali, 2 cose) anche diversi, ma che stanno insieme.**

## LA COPPIA

Cerchia ogni coppia e rispondi alle domande. Non dimenticarti di fare sempre l'operazione.

	Quante coppie?	Quanti bambini?
	Quante coppie?	Quanti polli?
	Quante coppie?	Quanti colombi?
	Quante coppie?	Quanti conigli?
	Quante coppie?	Quanti cavalli?
	Quante coppie?	Quanti tacchini?

Dalle coppie al numero degli elementi

5 coppie		
9 coppie		
8 coppie		
3 coppie		
10 coppie		
1 coppia		
0 coppie		
4 coppie		

Dalle paia al numero degli elementi

2 paia		
3 paia		
6 paia		
7 paia		
11 paia		
9 paia		
5 paia		
8 paia		

Dalle coppie al numero degli elementi

5 coppie		
9 coppie		
8 coppie		
3 coppie		
10 coppie		
1 coppia		
0 coppie		
4 coppie		

Dalle paia al numero degli elementi

2 paia		
3 paia		
6 paia		
7 paia		
11 paia		
9 paia		
5 paia		
8 paia		