


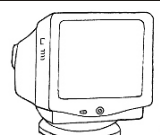












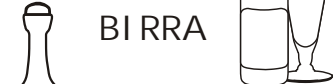



Completa le tabelle:

ARTICOLO	Costo unitario	Costo di 2 pezzi	Costo di 7 pezzi	Costo di 9 pezzi
	44,30 €	_____ €	_____ €	_____ €
	18,60 €	_____ €	_____ €	_____ €
	12,50 €	_____ €	_____ €	_____ €
	150 €	_____ €	_____ €	_____ €
	152,42 €	_____ €	_____ €	_____ €
	82,12 €	_____ €	_____ €	_____ €

ARTICOLO	Costo unitario	Costo di 2 pezzi	Costo di 7 pezzi	Costo di 9 pezzi
	_____ €	75 €	_____ €	_____ €
	_____ €	_____ €	150 €	_____ €
	7 €	_____ €	_____ €	_____ €
	_____ €	45 €	_____ €	_____ €
	_____ €	_____ €	_____ €	120 €

Completa le tabelle:

PRODOTTO	costo di un litro	costo di
 BIBITA	0,54 €	150 cl _____ €
OLIO 	3,26 €	500 ml _____ €
 LATTE	0,85 €	2 l _____ €
SAPONE LIQUIDO 	4,53 €	300 ml _____ €
 DETERSIVO	1,81 €	3,5 l _____ €
 BIRRA	1,22 €	66 cl _____ €
 VINO	3,99€	75 cl _____ €

PRODOTTO	costo di un chilogrammo	costo di
 GELATO	5,75 €	400 g _____ €
YOGURT 	2,08 €	150 g _____ €
 MERENDINE	3,74 €	80 g _____ €
BISCOTTI 	1,37 €	1,2 Kg _____ €
 PASTA	1,35 €	500 g _____ €
PANE 	4,35 €	2 Kg _____ €
 PELATI	0,95 €	12 hg _____ €

Trova i prezzi dei prodotti, disegnalì e calcola i costi

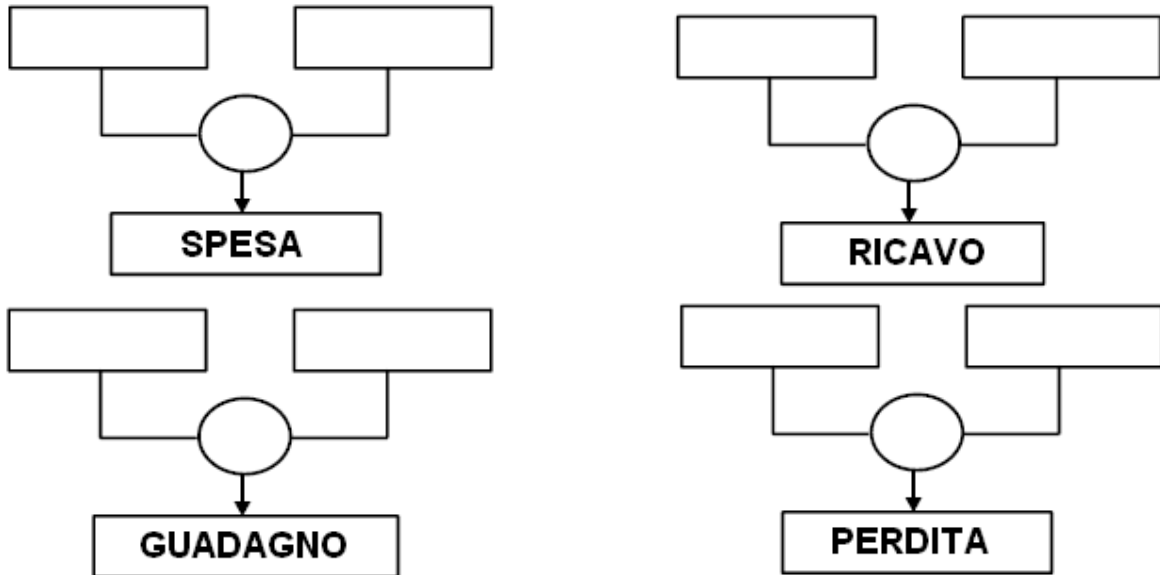
ARTICOLO	Costo unitario	Costo di 3 pezzi	Costo di 8 pezzi
deodorante	_____ €	_____ €	_____ €
saponetta	_____ €	_____ €	_____ €
dentifricio	_____ €	_____ €	_____ €
sc. di tonno	_____ €	_____ €	_____ €
stuzzicadenti	_____ €	_____ €	_____ €

PRODOTTO	costo di	costo di
spaghetti	1 Kg _____ €	5 hg _____ €
benzina	1 l _____ €	5 dal _____ €
caffè	1 Kg _____ €	250 g _____ €
elastico	1 m _____ €	3,5 dm _____ €

LA COMPRAVENDITA

Il negoziante compera all'ingrosso la merce per rifornire il proprio negozio (.....), poi la rivende (.....): quando gli affari vanno bene realizza un, in caso contrario subisce una

Completa le formule



Leggi con attenzione e indica V (vero) o F (falso)

- La spesa è la somma che il negoziante paga al grossista per acquistare la merce
- Il guadagno è la differenza tra il ricavo e la spesa
- Il negoziante realizza un guadagno quando il ricavo è minore della spesa
- Il ricavo comprende il guadagno e la spesa del negoziante
- Il negoziante subisce una perdita quando il ricavo è minore della spesa
- La perdita è la differenza tra il ricavo e la spesa

Completa la tabella con le operazioni necessarie

RICAVO (in €)	SPESA (in €)	GUADAGNO (in €)	PERDITA (in €)
16,00	12,50	$16,00 - 12,50 = 3,50$	\
3,75	2,50		
	9,30	5,70	
59,00			13,00
18,00	21,60		
33,00		4,30	
	75,80		9,20
100,00	83,40		
	99,70	7,50	
33,90	50,00		