

COPPIA, PAIO, DOPPIO E METÀ

I numeri nascosti nelle parole.

☺ Fai sempre attenzione alle parole! Forse ti sarai già accorto che alcune parole indicano un numero ben preciso.



Una coppia di colombi sono 2 colombi.



Una coppia di sposi sono 2 persone che si sposano.



Una coppia di poliziotti sono _____ poliziotti.



Un paio di scarpe sono 2 scarpe.




Un paio di guanti sono 2 guanti.



Un paio di caramelle sono _____ caramelle.

✎ 1 Trasforma le frasi in operazioni come nell'esempio ed esegui i calcoli.

Tre coppie di gatti sono _____ gatti.



$$2 \times 3 = \underline{\quad}$$

Quattro coppie di pesci sono _____ pesci.

$$\underline{\quad} \times \underline{\quad} = \underline{\quad}$$

Sei coppie di farfalle sono _____ farfalle.

$$\underline{\quad} \times \underline{\quad} = \underline{\quad}$$

Cinque paia di orecchini sono _____ orecchini.

$$\underline{\quad} \times \underline{\quad} = \underline{\quad}$$

Otto paia di calzini sono _____ calzini.

$$\underline{\quad} \times \underline{\quad} = \underline{\quad}$$

Disegna

Disegna

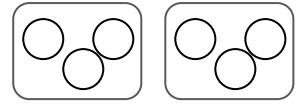
Disegna

Disegna

☺ E ora attento al **doppio** che **significa x 2!**

Il doppio di tre palline sono sei palline.

$$3 \times 2 = 6$$



Il doppio di cinque stelle sono ___ stelle.

$$\underline{\quad} \times \underline{\quad} = \underline{\quad}$$



Il doppio di sette bottoni sono ___ bottoni.

$$\underline{\quad} \times \underline{\quad} = \underline{\quad}$$



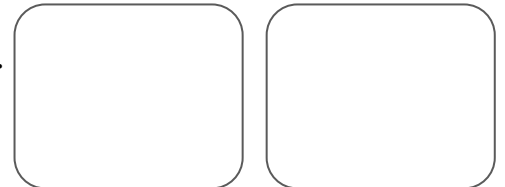
Il doppio di nove aerei sono ___ aerei.

$$\underline{\quad} \times \underline{\quad} = \underline{\quad}$$



Il doppio di quattro sedie sono ___ sedie.

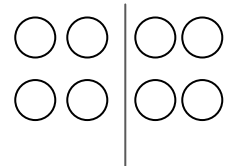
$$\underline{\quad} \times \underline{\quad} = \underline{\quad}$$



☺ E ora attento alla **metà** che **significa : 2!**

La metà di otto palline sono quattro palline.

$$8 : 2 = 4$$



La metà di dieci penne sono ___ penne.

$$\underline{\quad} : \underline{\quad} = \underline{\quad}$$




La metà di sedici gomme sono ___ gomme.

$$\underline{\quad} : \underline{\quad} = \underline{\quad}$$



La metà di diciotto tappi sono ___ tappi.

$$\underline{\quad} : \underline{\quad} = \underline{\quad}$$




La metà di quattordici banchi sono ___ banchi.

$$\underline{\quad} : \underline{\quad} = \underline{\quad}$$



La metà di dodici gessetti sono ___ gessetti.

$$\underline{\quad} : \underline{\quad} = \underline{\quad}$$



Esercizi Matematica

Doppio , Triplo , Quadruplo

Doppio = 2 volte

Triplo = 3 volte

Quadruplo = 4 volte

	il doppio è	il triplo è	il quadruplo è
2	4	6	8
3			
4			16
5			20
6	12		
7		21	
8	16		
9		27	
10		30	