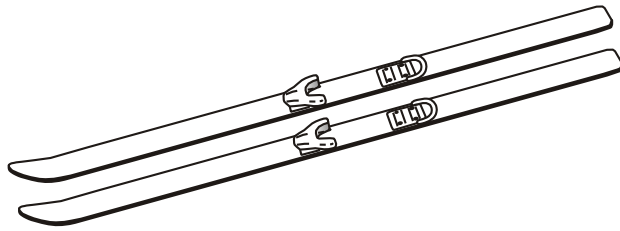


IL PAIO

Osserva e completa:

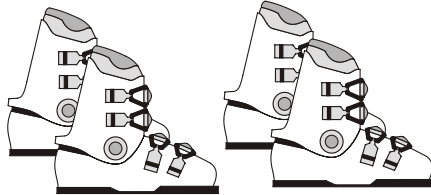
1 paio di sci



Quanti sci in tutto?

$$2 \times 1 = \dots\dots\dots$$

2 paia di scarponi



Quanti scarponi in tutto?

$$2 \times 2 = \dots\dots\dots$$

3 paia di guanti



Quanti guanti in tutto?

$$\dots\dots \times \dots\dots = \dots\dots\dots$$

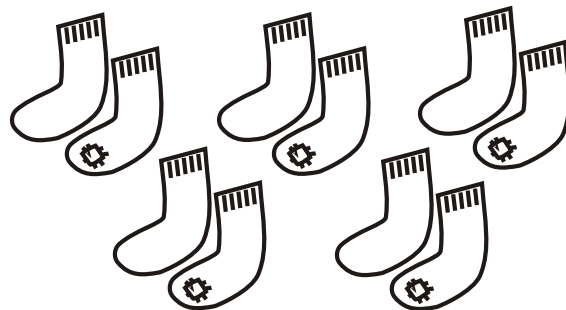
4 paia di orecchini



Quanti orecchini in tutto?

$$\dots\dots \times \dots\dots = \dots\dots\dots$$


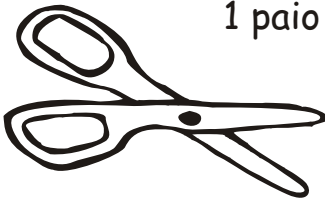
5 paia di calzini



Quanti calzini in tutto?

$$\dots\dots \times \dots\dots = \dots\dots\dots$$



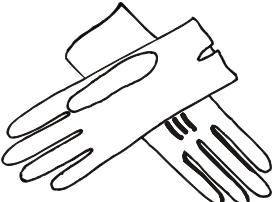

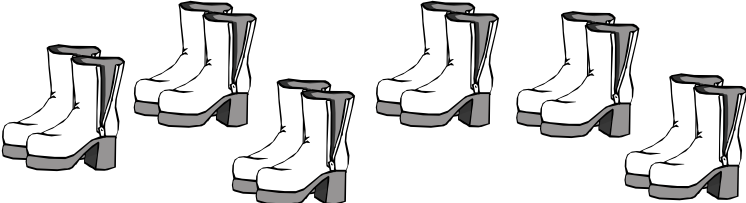

Osserva:

<p>1 paio di occhiali</p>  <p>2 lenti</p>	<p>1 paio di forbici</p>  <p>2 lame</p>
--	---

RICORDA: 1 PAIO = 2 oggetti uguali che si usano insieme

IL PAIO

Cerchia ogni paio e rispondi alle domande. Non dimenticarti di fare sempre l'operazione.

	Quante paia?	Quanti sandali?
	Quante paia?	Quanti calzini?
	Quante paia?	Quanti guanti?
	Quante paia?	Quante scarpe?
	Quante paia?	Quanti stivali?
	Quante paia?	Quanti pattini?