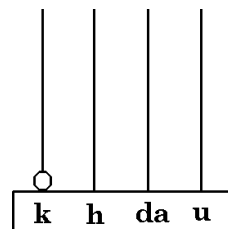
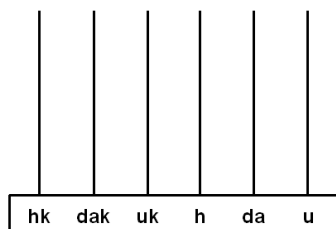


IL PERIODO DELLE MIGLIAIA SULL'ABACO

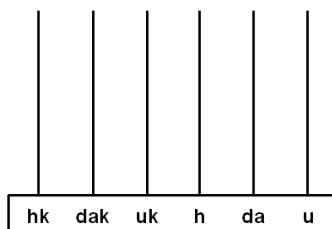
Sai che il numero 1.000 sull'abaco si rappresenta così



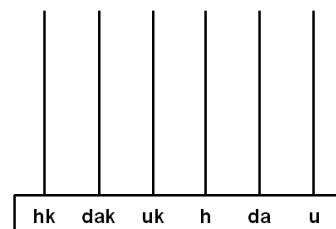
E' però possibile costruire un abaco con più asticciole. Rappresentiamo su di esso il numero **9.999** e aggiungiamo un'unità



Dopo aver eseguito i cambi opportuni, otteniamo una **decina di migliaia**. Sull'abaco ora è rappresentato il numero **10.000 (diecimila)**



Una pallina sulla sesta asticciola rappresenta le centinaia di migliaia. Il numero ora rappresentato sull'abaco è **100.000 (centomila)**



RICORDA

Le *unità di migliaia* - **uk** - (quarta asticciola dell'abaco), le *decine di migliaia* - **dak** - (quinta asticciola) e le *centinaia di migliaia* - **hk** - (sesta asticciola) costituiscono la **classe delle migliaia**.

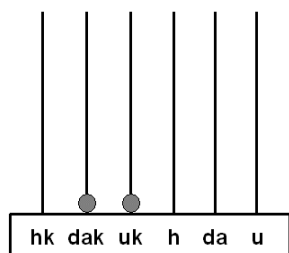
Il puntino o lo spazio che vedi nella scrittura dei numeri si usa per separare la classe delle "unità semplici" dalla "classe delle migliaia".

Ogni asticciola dell'abaco corrisponde a una colonna della seguente tabella

Classe delle migliaia			Classe delle unità semplici		
hk	dak	uk	h	da	u
					1
				1	0
			1	0	0
		1	0	0	0
	1	0	0	0	0
1	0	0	0	0	0

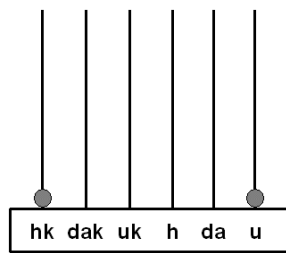
OSSERVA: la cifra 1 spostandosi di una colonna a sinistra aumenta dieci volte il suo valore

➤ Quali numeri sono rappresentati sugli abaci? Scrivili in cifre, poi in parole



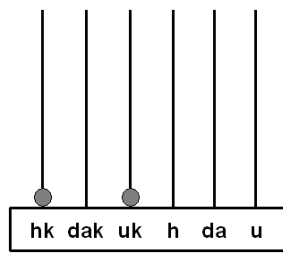
hk	dak	uk	h	da	u

.....



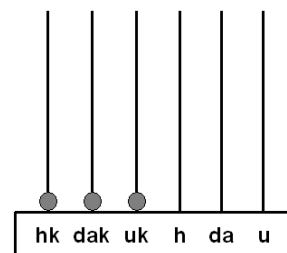
hk	dak	uk	h	da	u

.....



hk	dak	uk	h	da	u

.....

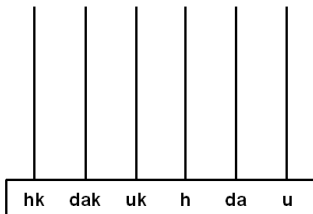


hk	dak	uk	h	da	u

.....

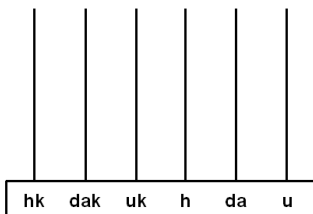
➤ Rappresenta su ogni abaco il numero indicato nella tabella, poi scrivilo in parola

hk	dak	uk	h	da	u
	1	2	0	0	0



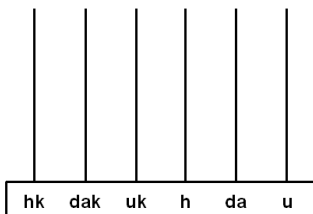
.....

hk	dak	uk	h	da	u
2	0	1	0	0	0



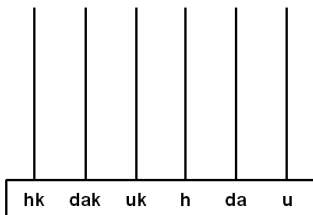
.....

hk	dak	uk	h	da	u
1	1	2	0	0	0



.....

hk	dak	uk	h	da	u
1	0	2	0	0	0



.....

➤ Scrivi in tabella i numeri indicati e leggili

	hk	dak	uk	h	da	u
1 migliaio e 1 unità						
1 migliaio e 1 decina						
3 migliaia e 30 decine						
4 migliaia e 1 centinaio						
2 decine di migliaia						
8 decine di migliaia e 8 decine						
10 migliaia e 2 centinaia						
2 decine di migliaia e 12 unità						
1 centinaio di migliaia						
3 centinaia di migliaia e 3 unità						
4 centinaia di migliaia e 1 centinaio						
18 decine di migliaia 2 centinaia 6 unità						
702 unità di migliaia						
8.456 centinaia						
25.700 decine						
890.532 unità						

➤ Collega il numero corrispondente, come nell'esempio

15 migliaia	1.500 150 → 15.000	20 migliaia	2.000 20.000 20
1 decina di migliaia e 8 centinaia	1.800 10.080 10.800	4 centinaia di migliaia e 1 unità di migliaia	401.000 4.100 401
5 decine di migliaia	50.000 500.000 50	8 centinaia di migliaia	800 80.000 800.000
12 migliaia	12.000 1.200 120.000	600 migliaia	6.000 600.000 600

➤ Completa

	hk	dak	uk	h	da	u
milleventi						
milleottantanove						
			1	4	0	0
			5	0	0	8
		1	1	0	0	0
dodicimilasette						
dodicimilasettanta						
dodicimilasettecento						
		1	2	7	0	7
	1	0	0	0	0	0
	1	0	0	0	0	2
centomilaventi						
centomiladuecento						

➤ Collega la parola alla cifra corrispondente

Milleventi	2.810
Milledue	1.705
Duemilaottocentodieci	1.002
Millesettecentocinque	1.020
Novemila	3.800
Tremilaotto	3.080
Tremilaottocento	9.000
Tremilaottanta	3.008

Duemilacinquecento	12.000
Ventimila	20.000
Dodicimila	2.500
Quindicimila	150.000
Centocinquantamila	15.000
Trecentomila	700.000
Seicentomilaseicento	300.000
Settecentomila	600.600

➤ Leggi i numeri e scrivi in parole

8.500
1.023
6.108
8.007
12.500
36.020
50.000
40.825
200.000
135.000
180.000
303.000
274.000