

① Esegui mentalmente i problemi e rispondi:


 Quanti Kg pesano tre valigie da 150 hg ciascuna?

 Una cassetta di arance pesa 5 Kg e 6 hg. Quanti grammi pesa?


 Quanti cl di sciroppo ci sono in 3 cucchiaini da 10 ml?


 Quanti hl di olio ci sono in 25 bottiglie da 1 litro ciascuno?


 Quanti birilli a 2 metri di distanza l'uno dall'altro devo mettere in un tragitto lungo 3 hm?


 Un righello è lungo 25 cm. Quanti righelli occorrono per formare 1 metro? E per formare 1 decametro?

② Esegui sul quaderno:

 Da un sacco di farina che pesa 6,5 Kg vengono tolti 250 dag. Quanti Kg rimangono?

 Un serbatoio contiene 0,26 hl di benzina. Dopo 4 pieni di carburante, quanti litri sono stati inseriti nel serbatoio?

 Con un litro di soluzione salina, quante provette da 0,5 dl si possono riempire? Quanti cucchiaini da 10 ml?

 Il circuito di un autodromo misura 85 hm. Quanti Km ha percorso un'auto da corsa dopo 12 giri?