

# Le figurine

Luca e Paolo giocano con le figurine.

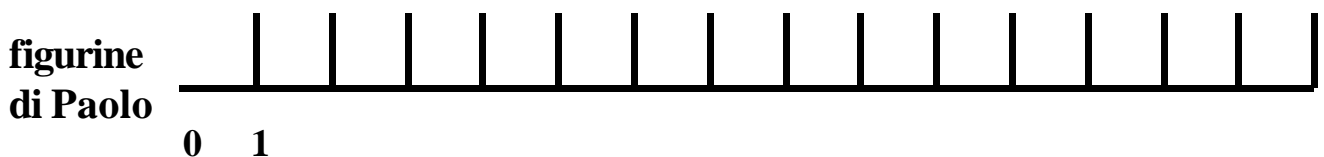
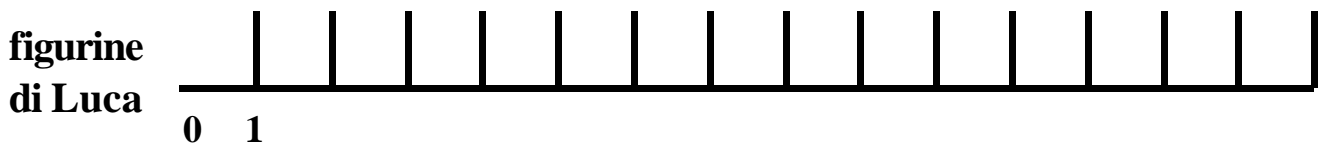
Luca ha 10 figurine, Paolo ne ha 12.

Luca ne vince prima 5, poi ne perde 3.

Paolo, invece, prima ne perde \_\_\_\_\_ e poi ne vince \_\_\_\_\_.

Al termine del gioco chi ha più figurine?

- **Completa il problema con i dati mancanti.**
- **Completa le linee numeriche scrivendo i numeri.**
- **Conta sulle linee numeriche il numero di figurine di ogni bambino**



Al termine del gioco ha più figurine \_\_\_\_\_

Quante di più? \_\_\_\_\_

# Giulio ed Andrea

Giulio e Andrea, per giocare, mettono insieme le loro automobiline.

Quando smettono di giocare, ciascun bambino vuole riprendersi lo stesso numero di automobiline che aveva all'inizio del gioco.

Tutte le automobiline sono 48, ma come dividerle?

Andrea ricorda che ne aveva il triplo di Giulio.

Vuoi aiutarli a dividere le macchinette nel modo giusto?

**Per di rispondere aiutati con questo schema:**

\_\_\_\_\_

**macchinette di Giulio**

\_\_\_\_\_

**macchinette di Andrea**

## Automobili e motorini


Nel parcheggio della scuola, sono posteggiate delle auto e dei motorini. In tutto i veicoli sono 26.

Le ruote, escludendo quelle di scorta, sono 92.

Quante sono le automobili?

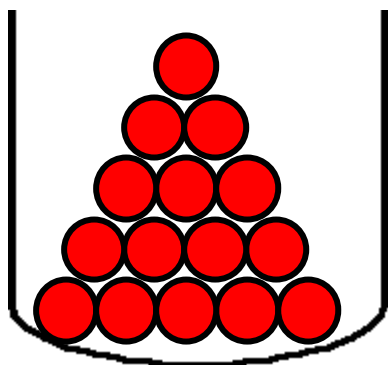
Quanti sono i motorini?

Trova una strategia risolutiva per rispondere e, se vuoi, aiutati con dei disegni.

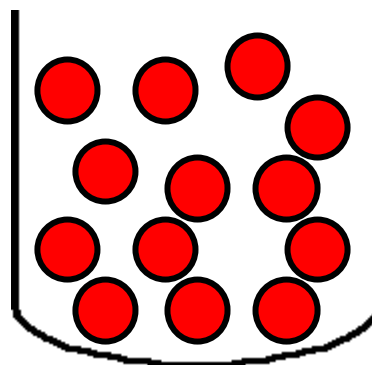


# Le palline

I barattoli A e B contengono delle palline:



A



B

- Senza contarle, ti sembra che ci siano più palline nel barattolo A o nel barattolo B? \_\_\_\_\_
- Conta le palline del barattolo A e colora tanti quadratini quante sono le palline:

--	--	--	--	--	--	--	--	--	--	--	--	--	--	--	--	--	--	--	--

Scrivi il numero \_\_\_\_\_

- Conta le palline del barattolo B e colora tanti quadratini quante sono le palline:

--	--	--	--	--	--	--	--	--	--	--	--	--	--	--	--	--	--	--	--

Scrivi il numero \_\_\_\_\_

- Ci sono più palline nel barattolo A o nel barattolo B? \_\_\_\_\_ .Quante di più? \_\_\_\_\_

# I mazzi di fiori

Per la festa della mamma Paola, Clara e Delia sono andate dal fioraio e hanno comprato 3 bei mazzi di fiori da regalare alle loro mamme.

Le bambine hanno detto al fioraio di confezionare i mazzi in questo modo:

- Paola ha chiesto 3 rose, 7 margherite e 10 gladioli;
- Clara 5 rose, 6 margherite e 7 gladioli;
- Delia 1 rosa, 10 margherite e 5 gladioli.

- *Riporta i dati nella tabella e completala.*

	Paola	Clara	Delia	totale
rose				
margherite				
gladioli				
fiori di ciascun mazzo				

• *Ora completa le risposte.*

- Il mazzo di Paola è composto da \_\_\_\_\_ fiori.

- Il mazzo di Clara è composto da \_\_\_\_\_ fiori.

- Il mazzo di Delia è composto da \_\_\_\_\_ fiori.

- La bambina che ha acquistato più fiori è \_\_\_\_\_

- La bambina che ha acquistato meno fiori è \_\_\_\_\_

- In tutto le bambine hanno acquistato:

\_\_\_\_\_ rose,

\_\_\_\_\_ margherite,

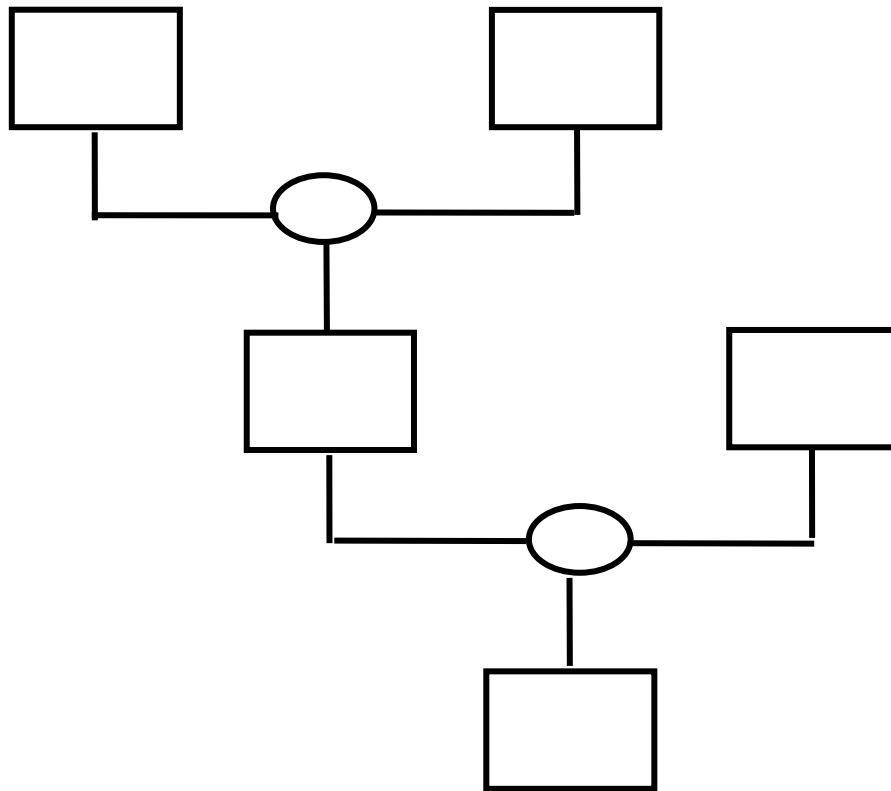
\_\_\_\_\_ gladioli.

In tutto sono stati acquistati \_\_\_\_\_ fiori.

## Risolvi il problema utilizzando il diagramma a blocchi predisposto

In un caseggiato in costruzione vi sono 10 piani, in ogni piano vi sono 32 finestre ed ogni finestra deve essere dotata di 6 vetri.

Quanti vetri occorrono complessivamente?




Esegui i tuoi calcoli nel riquadro:

Rispondi alla domanda:

---

---

# QUADRATI E TRIANGOLI



Trova una strategia per contare esattamente i quadrati e i triangoli: \_\_\_\_\_

Quanti sono i quadrati? \_\_\_\_\_

Quanti sono i triangoli? \_\_\_\_\_

Sono di più i quadrati o i triangoli? \_\_\_\_\_

Quanti di più? \_\_\_\_\_



## Le collane di perline

Luisa e Maria hanno realizzato 2 bellissime collane con perle di uguale misura ma di diverso colore.

Luisa ha utilizzato 26 perline gialle, 14 rosse e 8 bianche.

- *Disegna la collana di Luisa:*



Maria ha utilizzato 22 perline rosse, 16 bianche e 6 gialle.

- *Disegna la collana di Maria:*



Quante perline formano la collana di Luisa? \_\_\_\_\_

Quante perline misura la collana di Maria? \_\_\_\_\_

Quale collana ha il maggior numero di perline? \_\_\_\_\_

Quante di più? \_\_\_\_\_


Quale collana è più lunga? \_\_\_\_\_

Di quante perline? \_\_\_\_\_

*Esegui qui i tuoi calcoli:*



## Le rose del giardino



Nel giardino ci sono delle rose:

- 2 sono rosse (colorale)
- 4 sono gialle (colorale)
- 3 sono viola (colorale)

Quante sono tutte le rose del giardino?

Scrivi l'operazione che occorre e rispondi alla domanda:

---

---