

EQUIVALENZE CON LE MISURE DI PESO/MASSA

0,01 g = _____ dg

26 Kg = _____ Mg

17,3 hg = _____ kg

0,04 dag = _____ g

14 hg = _____ kg

198 dg = _____ cg

2,94 kg = _____ hg

395 cg = _____ dag


81 g = _____ dag

2,2 Mg = _____ kg

0,7 hg = _____ g

0,47 Mg = _____ kg

1,1 dag = _____ kg



60 cg = _____ mg

0,34 Mg = _____ Kg

0,72 Kg = _____ g

2,29 hg = _____ dag

0,83 dag = _____ dg

34 g = _____ mg

0,52 Mg = _____ kg

838 dg = _____ cg

9 mg = _____ dg

6 g = _____ mg

0,3 Mg = _____ kg

30 mg = _____ g

481 dag = _____ hg



EQUIVALENZE CON LE MISURE DI PESO/MASSA

3,2 Kg = _____ hg

29 Mg = _____ Kg

105 g = _____ kg

9,1 g = _____ hg

45,1 Mg = _____ hg

848 cg = _____ mg

84 hg = _____ g

19 dag = _____ cg

0,23 Kg = _____ g


8 g = _____ dg

955 g = _____ dag

734 mg = _____ g

86,5 kg = _____ dag

8 cg = _____ mg



0,008 g = _____ mg

6,45 kg = _____ dag

263 dag = _____ kg

3,25 kg = _____ g

0,067 hg = _____ cg

2 mg = _____ g

1.200 dag = _____ kg

3 Mg = _____ kg

12,56 kg = _____ g

264 g = _____ kg

900 cg = _____ g

0,254 g = _____ mg

0,36 g = _____ dg



EQUIVALENZE CON LE MISURE DI PESO/MASSA

81,3 hg = _____ cg

1,7 Mg = _____ hg

94,03 g = _____ kg

53,2 mg = _____ g

462 dg = _____ mg

4.935 kg = _____ Mg

1.678 mg = _____ dg

1,28 hg = _____ kg

65,8 hg = _____ g


4,85 Mg = _____ kg

834 dg = _____ dag

7,83 dag = _____ cg

7.134 hg = _____ kg

2,13 kg = _____ g



420 dag = _____ g

640 dg = _____ g

4 g = _____ cg

6.000 g = _____ kg

1,5 hg = _____ dag 14

kg = _____ dag

302 hg = _____ g

0,9 dg = _____ mg

0,04 dag = _____ g

706 dg = _____ dag

642 hg = _____ kg

0,358 kg = _____ g

2,3 dag = _____ g



MISURE DI PESO

Svolgi le seguenti equivalenze.

0,14 dag	=	_____	dg
0,05 Mg	=	_____	kg
0,052 kg	=	_____	g
4000 mg	=	_____	dg
2,38 kg	=	_____	hg
51,24 cg	=	_____	g
33,4 hg	=	_____	g
61,11 g	=	_____	mg
3000 mg	=	_____	dg
73 Mg	=	_____	kg
9,81 hg	=	_____	dag
7 kg	=	_____	dag
250 g	=	_____	hg
0,03 g	=	_____	cg
57 kg	=	_____	Mg
4321 dg	=	_____	hg
72,1 Mg	=	_____	kg
9 hg	=	_____	kg
3,11 dag	=	_____	dg

www.mammaebambini.it

MISURE DI PESO

Indica il valore di ogni cifra.

14,6 hg = 1 kg 4 hg 6 dag

565 dg =

1830 g =

62,44 dag =

17,5 dg =

1,841 kg =

79,4 dag =

301 hg =

38,65 kg =

31,71 g =

75 cg =

6,1 g =

72,3 dag =

9,80 hg =

1,15 g =

325 cg =

715,1 dg =

1,3 kg =

485 mg =

6,31 hg =

135 dg =

www.mammaebambini.it

Esegui le equivalenze: misure di peso.

Mg 0,52 = kg _____

dg 838 = cg _____

mg 9 = dg _____

g 6 = mg _____

Mg 0,3 = kg _____

mg 30 = g _____

dag 481 = hg _____

g 0,01 = dg _____

Kg 26 = Mg _____

hg 17,3 = kg _____

dag 0,04 = g _____

hg 1 = kg _____

dg 198 = cg _____

kg 2,94 = hg _____

cg 395 = g _____


cg 2 = dg _____

g 181 = dag _____

Mg 2,2 = kg _____

hg 0,7 = g _____

Mg 0,47 = kg _____



Esegui le equivalenze: misure di peso.

dag 1,1 = kg _____

Kg 3,2 = hg _____

Mg 29 = Kg _____

g 105 = kg _____

g 9,1 = hg _____

Mg 45,1 = hg _____

cg 848 = mg _____

hg 84 = g _____

dag 19 = cg _____

Kg 0,23 = g _____

g 8 = dg _____

g 955 = dag _____

mg 734 = g _____

kg 86,5 = dag _____

cg 8 = mg _____

cg 60 = mg _____

Mg 0,34 = Kg _____

Kg 0,72 = g _____

hg 2,29 = dag _____

dag 0,83 = dg _____

