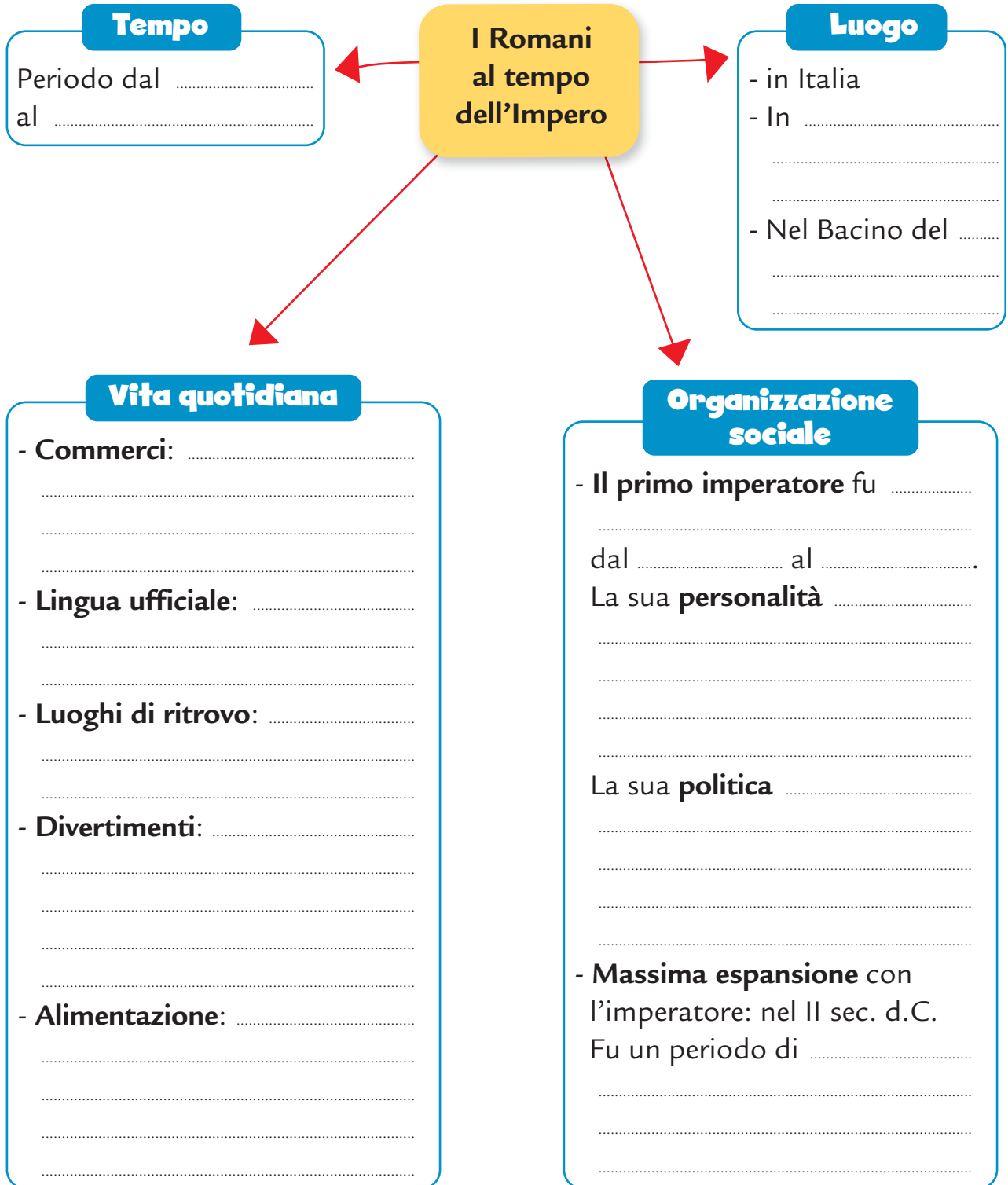


Roma imperiale

1

Osserva con attenzione la mappa su Roma imperiale e completala.



La crisi dell'Impero

1 Nel III secolo d.C. l'Impero Romano cominciò a manifestare i segni di una crisi profonda che nell'arco di due secoli lo portò alla caduta.
Completa la tabella con le cause della crisi dell'Impero Romano scegliendo dall'elenco.

*diminuzione dei commerci · lotte tra i generali · instabilità di governo ·
rivolte nelle province · aumento dei prezzi · aumento della povertà ·
scarsità di forza-lavoro · ripresa del brigantaggio e della pirateria ·
disorganizzazione dell'esercito · insicurezza dei confini ·
indebolimento morale · eccessivo amore per il lusso*

Crisi politica	Crisi militare	Crisi economica	Crisi dei valori
.....
.....
.....
.....
.....
.....
.....
.....
.....
.....
.....

2 Scrivi un breve testo per spiegare le ragioni della crisi dell'Impero Romano.

.....

.....

.....

.....

.....

.....

.....

.....

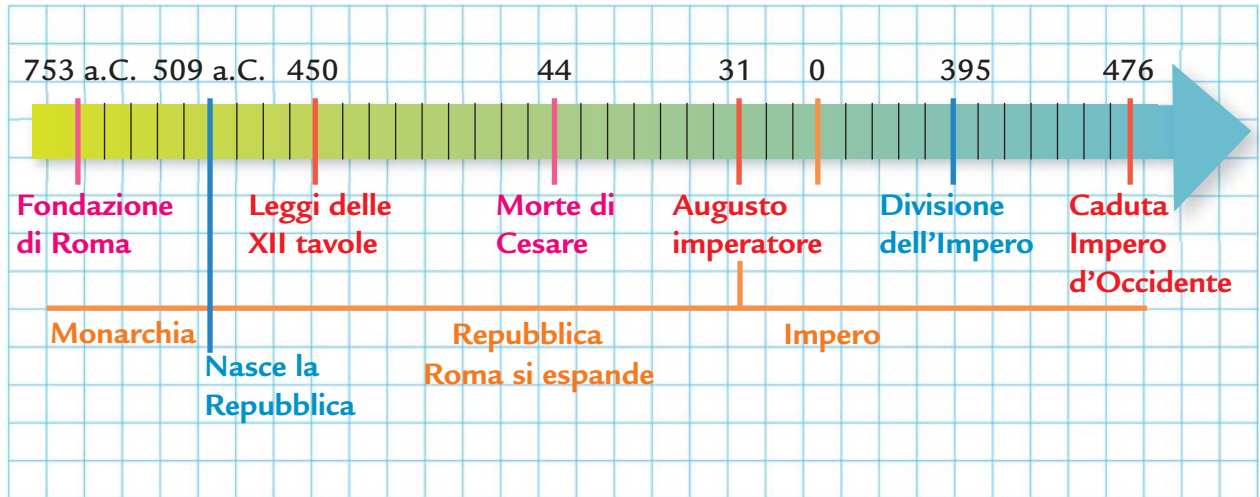
.....

.....

Avvio al testo storico

1

Leggi la linea del tempo e scrivi un breve testo che narri la storia di Roma.



.....

.....

.....

.....

.....

.....

.....

.....

.....

.....

.....

.....

.....

.....

.....

.....

.....

.....

.....

.....

.....

.....

.....

.....

.....

.....

.....

Gli Etruschi

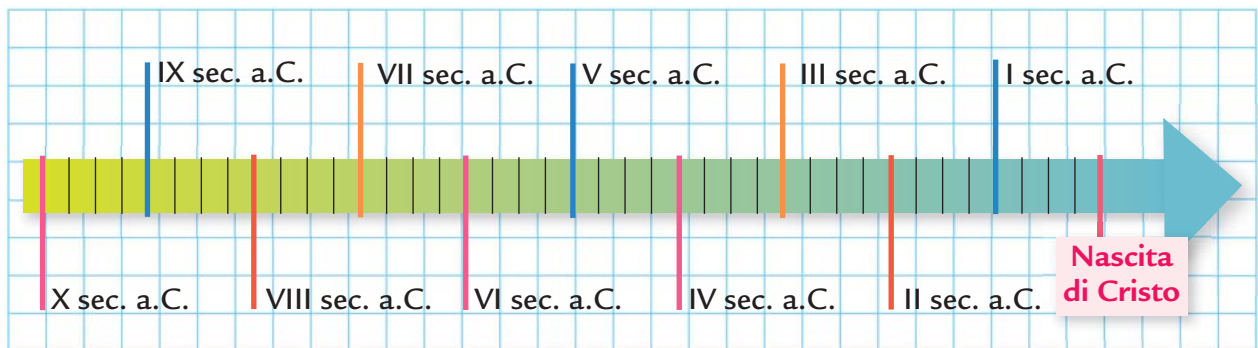
1

Leggi il brano poi indica sulla linea del tempo l'inizio della civiltà etrusca, il periodo di massimo splendore e l'inizio della decadenza.

Gli Etruschi, la cui origine non è ancora certa, entrarono in contatto con i Greci e progredirono velocemente sviluppando una fiorente civiltà nell'Italia centrale intorno all'VIII secolo a.C.

Dai Greci appresero l'alfabeto, il culto di alcuni dei e l'organizzazione politica. Gli Etruschi raggiunsero il periodo di massimo splendore tra il VII e il V secolo a.C. e, divenuti abili marinai, guerrieri e pirati, mantennero il controllo sul Mar Tirreno.

A partire dal III secolo a.C. iniziò però una lenta decadenza a causa dell'emergere della potenza di Roma.



2

Osserva la carta e colora in giallo il territorio degli Etruschi.

3

Scrivi il nome delle città fondate dagli Etruschi:

nella Pianura Padana

.....

in Toscana

.....

nel Lazio

.....

