


## I periodi della Preistoria: il Paleolitico

1 Inserisci i periodi della Preistoria nella **linea del tempo**.

*Età dei metalli · Paleolitico · Neolitico*




2 Indica con una **X** se le affermazioni sono vere (V) o false (F).

Nel Paleolitico gli uomini e le donne:

- coltivavano i campi  V  F
- erano nomadi  V  F
- costruivano gli utensili scheggiando le pietre o utilizzando ossa di animali  V  F
- raccoglievano bacche, frutti e semi da mangiare e andavano a caccia o a pesca  V  F
- si rifugiavano nelle caverne o si costruivano semplici rifugi  V  F
- vivevano in piccoli villaggi  V  F
- non praticavano nessuna religione  V  F
- non sapevano disegnare  V  F

3 Osserva le immagini e completa i testi.



È .....

Serviva per.....

.....

.....



È .....

Serviva per.....

.....

.....



Sono .....

Servivano per.....

.....

.....

4 Completa lo schema logico.



## I periodi della Preistoria

1 Metti in ordine di tempo i seguenti strumenti, dal più lontano al più vicino a noi. Scrivi i numeri nei quadratini.

- statuina
- macina
- chopper
- telaio
- mazza



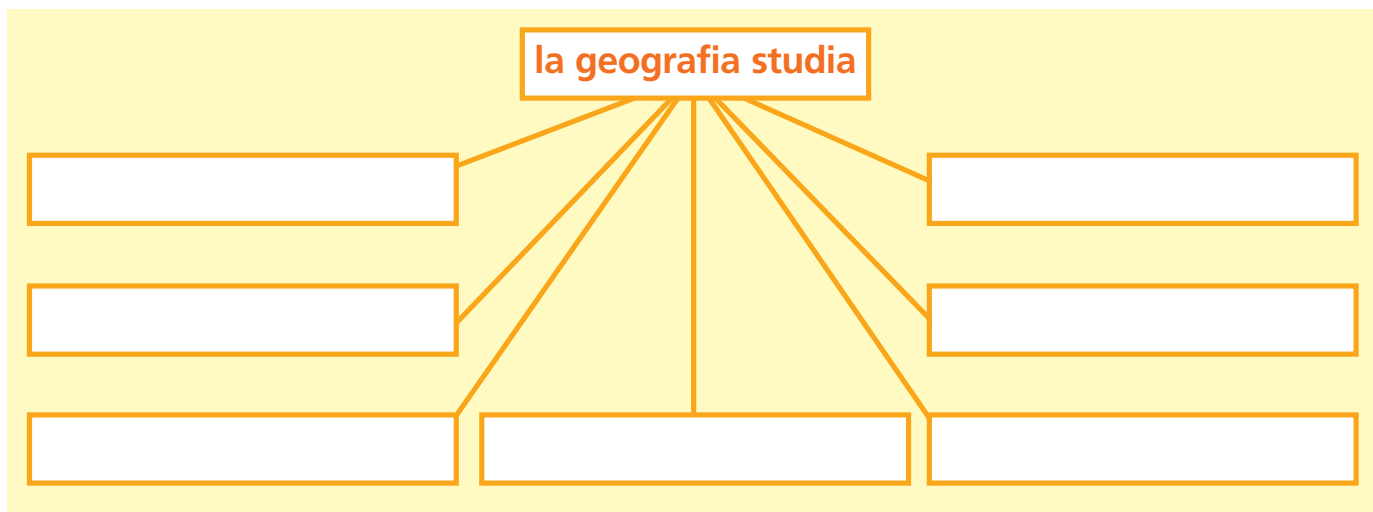
2 Scrivi il termine giusto accanto alla spiegazione. Scegli tra:

**nomadi**      **sedentari**      **Paleolitico**      **Neolitico**

- Periodo più antico della preistoria caratterizzato dall'uso della pietra scheggiata per fabbricare armi e utensili. ....
- Periodo della preistoria; il suo nome deriva dall'uso della pietra levigata per costruire strumenti. ....
- Gruppi umani che non vivono in maniera stabile su un territorio, ma si spostano frequentemente alla ricerca di cibo. ....
- Popolazioni che si sono insediate stabilmente su un territorio. In genere praticano l'agricoltura e l'allevamento. ....

## Cosa studia la geografia?

1 Completa lo schema con le informazioni che hai a disposizione e con quello che sai.



2 Ti ricordi che cosa studiano gli scienziati che aiutano il geografo? Scrivilo brevemente sui puntini.


<b>botanico</b> ..... .....	<b>geologo</b> ..... .....
<b>meteorologo</b> ..... .....	<b>zoologo</b> ..... .....
<b>cartografo</b> ..... .....	

3 Cerca in un paesaggio, per esempio in una cartolina o in una fotografia presa da un giornale, tutti gli elementi antropici, cioè tutto ciò che è stato fatto dall'uomo.

.....  
.....

## La Terra agli inizi

Per milioni di anni la Terra rimase un pianeta **privo di forme di vita**, senza acqua né aria respirabile. Continui **terremoti** sollevavano o sprofondavano vaste zone della Terra. L'intero pianeta era colpito da **meteoriti**, rocce gigantesche che sfrecciavano nello spazio. I **vulcani** emettevano magma rovente e **nubi di vapore** e **gas** che circondavano il pianeta. Poi le nubi si raffreddarono e il vapore si trasformò in **pioggia**. Piovve per migliaia di anni e così si formarono gli **oceani**.



225 milioni di anni fa esisteva un'unica massa di Terra circondata dagli oceani: la **Pangea**. Poi lentamente la Pangea si spezzò in più parti e si formarono i continenti.

**1** Completa il testo con i seguenti termini.

palla • nubi • superficie • vita • oceani • pioggia

All'inizio la Terra era come una ..... di fuoco. Poi la ..... lentamente si raffreddò e si formò la crosta terrestre, ma non vi era ..... sulla Terra. Il vapore, emesso dai vulcani formò grandi ..... che si trasformarono in ..... che diede origine agli .....

## Punti e carte

**1** Completa lo schema con i seguenti termini.

punti di riferimento   Sole   punti cardinali   carte   mappe



**2** Riconosci i diversi tipi di carte tematiche.  
Prova a scrivere tu di quale tipo di rappresentazione si tratta.



.....



.....